

S. Rositawaty - Aris Muharam



Senang Belajar Ilmu Pengetahuan Alam

untuk Kelas I SD/MI

S. Rositawaty dan Aris Muharam



1

# Senang Belajar Ilmu Pengetahuan Alam

untuk Kelas I  
Sekolah Dasar/Madrasah Ibtidaiyah



PUSAT PERBUKUAN  
Departemen Pendidikan Nasional



**Pusat Perbukuan**  
Departemen Pendidikan Nasional



**Senang Belajar**  
**Ilmu Pengetahuan Alam**

untuk Kelas I  
Sekolah Dasar/Madrasah Ibtidaiyah

S. Rositawaty  
Aris Muharam

Hak Cipta ada Pada Departemen Pendidikan Nasional  
Dilindungi Undang-undang

# Senang Belajar Ilmu Pengetahuan Alam 1 untuk Sekolah Dasar/Madrasah Ibtidaiyah Kelas I

Penulis : S. Rositawaty  
Aris Muharam

Ukuran Buku : 17,6 x 25 cm

372.3

ROS

ROSITAWATY, S.

s

Senang belajar ilmu pengetahuan alam 1: untuk Kelas 1  
Sekolah Dasar/Madrasah Ibtidaiyah/oleh S. Rositawaty dan  
Aris Muharam. – Jakarta: Pusat Perbukuan,  
Departemen Pendidikan Nasional, 2008.

viii, 138 hlm. : ilus. ; 25 cm.

Bibliografi : hlm.138

ISBN 979-462-848-4 (jilid lengkap)

979-462-827-1

I. Ilmu Pengetahuan Alam- Studi dan Pengajaran I. Judul

II. Muharam, Aris

Diterbitkan oleh Pusat Perbukuan  
Departemen Pendidikan Nasional  
Tahun 2008

Diperbanyak oleh ...

# Kata Sambutan

Puji syukur kami panjatkan ke hadirat Allah SWT, berkat rahmat dan karunia-Nya, Pemerintah, dalam hal ini, Departemen Pendidikan Nasional, pada tahun 2007, telah membeli hak cipta buku teks pelajaran ini dari penulis untuk disebarluaskan kepada masyarakat melalui *website* Jaringan Pendidikan Nasional.

Buku teks pelajaran ini telah dinilai oleh Badan Standar Nasional Pendidikan dan telah ditetapkan sebagai buku teks pelajaran yang memenuhi syarat kelayakan untuk digunakan dalam proses pembelajaran melalui Peraturan Menteri Pendidikan Nasional Nomor 46 Tahun 2007.

Kami menyampaikan penghargaan yang setinggi-tingginya kepada para penulis yang telah berkenan mengalihkan hak cipta karyanya kepada Departemen Pendidikan Nasional untuk digunakan secara luas oleh para pendidik dan peserta didik di seluruh Indonesia.

Buku-buku teks pelajaran yang telah dialihkan hak ciptanya kepada Departemen Pendidikan Nasional tersebut, dapat diunduh (*down load*), digandakan, dicetak, dialihmediakan, atau difotokopi oleh masyarakat. Namun, untuk penggandaan yang bersifat komersial harga penjualannya harus memenuhi ketentuan yang ditetapkan oleh Pemerintah. Diharapkan bahwa buku teks pelajaran ini akan lebih mudah diakses sehingga peserta didik dan pendidik di seluruh Indonesia maupun sekolah Indonesia yang berada di luar negeri dapat memanfaatkan sumber belajar ini.

Kami berharap, semua pihak dapat mendukung kebijakan ini. Selanjutnya, kepada para peserta didik kami ucapkan selamat belajar dan manfaatkanlah buku ini sebaik-baiknya. Kami menyadari bahwa buku ini masih perlu ditingkatkan mutunya. Oleh karena itu, saran dan kritik sangat kami harapkan.

Jakarta, 25 Februari 2008  
Kepala Pusat Perbukuan



# Prakata


Puji syukur kami panjatkan ke hadirat Tuhan Yang Maha Pencipta sehingga buku Senang Belajar Ilmu Pengetahuan Alam ini dapat diselesaikan tepat pada waktunya.

Buku ini kami susun berdasarkan Standar Isi 2006. Melalui buku ini, kami menyajikan pembelajaran IPA yang lebih menarik, kreatif, dan bermakna. Bersama buku ini, siswa diajak untuk memerhatikan dan mempelajari keadaan alam yang ada di sekitarnya. Untuk menambah ketertarikan siswa dalam mempelajari IPA, kami sajikan pula kegiatan yang dapat merangsang daya kritis dan kreativitas. Di samping itu, dengan pembelajaran bermakna siswa dapat merasakan manfaat belajar IPA dalam kehidupan sehari-hari.

Buku ini, kami dedikasikan untuk keluarga yang telah memberikan semangat dalam menyusun buku ini. Semoga buku ini bermanfaat bagi peningkatan kemajuan pendidikan di Indonesia tercinta ini. Amin.


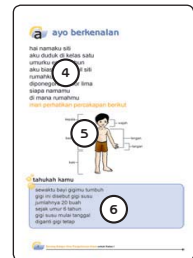
**Penulis**

# Isi Buku




1. **Judul Bab** dicantumkan untuk mengetahui materi pembahasan yang akan dipelajari.
2. **Gambar Pembuka Bab** berisi gambar yang mewakili salah satu materi yang dipelajari pada bab tersebut.
3. **Teks Pengantar** mengantarkanmu memasuki materi yang akan dibahas.

4. **Materi Pembelajaran** disajikan secara sistematis dengan bahasa yang mudah dipahami.
5. **Gambar dan Ilustrasi** disajikan untuk membantu memahami materi yang sedang dipelajari.
6. **Tahukah Kamu?** menyajikan informasi yang berkaitan dengan materi yang disajikan secara singkat dan sederhana.



7. **Ayo, Cari Tahu** berisi kegiatan yang dapat kamu lakukan untuk memahami materi lebih baik.
8. **Ayo, Berlatih** berisi pertanyaan untuk menguji pemahamanmu tentang materi yang dipelajari.
9. **Ayo, Kerjakan** berisi tugas atau kegiatan yang dikerjakan untuk lebih memahami materi yang dipelajari.

10. **Ayo, Pahami** berisi rangkuman materi yang telah dipelajari.
11. **Ayo, Pelajari Kembali** berisi pertanyaan untuk mengetahui tingkat pemahamanmu pada setiap bab.
12. **Kegiatan Semester** berisi kegiatan untuk melatih kemampuan kerjasama di dalam kelompok dan diberikan pada awal semester.
13. **Evaluasi Bab** berisi soal-soal untuk mengukur kemampuanmu mengenai materi yang telah dipelajari pada setiap bab.



14. **Evaluasi Semester** berisi soal-soal akhir semester.
15. **Evaluasi Akhir Tahun** berisi soal-soal akhir tahun.
16. **Kunci Jawaban** berisi jawaban-jawaban soal Ayo, Berlatih, Evaluasi Bab, Evaluasi Semester, dan Evaluasi Akhir Tahun.
17. **Kamus IPA** menyajikan kata-kata kunci yang berkaitan dengan materi yang dipelajari dan dilengkapi penjelasan.

# Daftar Isi

Sambutan .....	iii
Prakata .....	v
Isi Buku .....	vi
Daftar Isi .....	vii

## Semester 1




kegiatan semester 1 .....	1
<b>bab 1 mengenal diri sendiri .....</b>	<b>3</b>
a ayo berkenalan .....	4
b mengenal anggota tubuh .....	6
c kegunaan anggota tubuh .....	11
d cara merawat anggota tubuh .....	17
<b>evaluasi bab 1 .....</b>	<b>21</b>



<b>bab 2 kebersihan dan kesehatan tubuh .....</b>	<b>25</b>
a kebutuhan tubuh .....	26
b membiasakan hidup sehat .....	33
<b>evaluasi bab 2 .....</b>	<b>37</b>



<b>bab 3 memelihara lingkungan .....</b>	<b>41</b>
a lingkungan sehat dan tidak sehat .....	42
b cara memelihara lingkungan .....	45
<b>evaluasi bab 3 .....</b>	<b>48</b>



<b>bab 4 mengenal benda di sekitar kita .....</b>	<b>53</b>
a ciri ciri benda .....	54
b benda dapat berubah bentuknya .....	65
c kegunaan benda .....	67
<b>evaluasi bab 4 .....</b>	<b>70</b>
<b>evaluasi semester 1 .....</b>	<b>76</b>



## Semester 2



kegiatan semester 2 .....	81
<b>bab 5 gerak benda.....</b>	<b>83</b>
a benda mudah bergerak dan benda sulit bergerak .....	84
b mengamati gerak benda .....	87
c bentuk gerak benda .....	89
d penyebab benda bergerak .....	91
e sumber sumber energi gerak .....	93
<b>evaluasi bab 5 .....</b>	<b>96</b>
<b>bab 6 mengenal benda langit .....</b>	<b>101</b>
a mengenal benda langit pada malam hari .....	102
b mengenal benda langit pada siang hari .....	104
<b>evaluasi bab 6 .....</b>	<b>110</b>
<b>bab 7 mengenal musim dan cuaca .....</b>	<b>113</b>
a musim hujan .....	114
b kegiatan manusia pada musim hujan .....	116
c pengaruh musim panas atau kemarau .....	118
d kegiatan manusia pada musim kemarau .....	119
<b>Evaluasi Bab 7 .....</b>	<b>122</b>
<b>Evaluasi Semester 2 .....</b>	<b>125</b>
<b>Evaluasi Akhir Tahun .....</b>	<b>130</b>
<b>Kunci Jawaban.....</b>	<b>134</b>
<b>Kamus IPA .....</b>	<b>137</b>
<b>Daftar Pustaka.....</b>	<b>138</b>

# kegiatan semester 1

## membuat jadwal memelihara tubuh dan rumahmu

ayo buatlah jadwal kegiatan memelihara tubuh dan rumahmu

lakukan langkah langkah berikut

- 1 ambillah kertas polos ukuran folio
- 2 buatlah tabel sederhana seperti contoh
- 3 buatlah catatan kecil pada tabel setiap minggu  
catatan kecil tersebut berupa rencana berikut

### memelihara tubuh

- menggunting kuku seminggu sekali
- membersihkan telinga seminggu sekali
- mencukur rambut seminggu sekali

### menjaga rumah agar bersih

- menyapu kamar tidur setiap hari
- mengepel kamar tidur seminggu sekali

- 3 tuliskanlah pada tabel rencanamu

k = rencana untuk menggunting kuku

t = rencana untuk membersihkan telinga

r = rencana untuk menyapu kamar tidur

o = rencana untuk mencukur rambut

p = rencana untuk mengepel lantai kamar tidur

- 4 orang tuamu akan memberi tanda  $\checkmark$  atau  $\times$   
tanda  $\checkmark$  jika kamu melakukan rencana tersebut  
tanda  $\times$  jika kamu lalai

- 5 isilah tabel kegiatanmu selama satu bulan  
serahkanlah kepada orang tuamu untuk ditandatangani  
setelah itu tabel diserahkan kepada gurumu

berikut ini contoh tabel kegiatan yang dapat kamu buat

rencana kegiatan memelihara tubuh dan lingkungan			
hari ke	rencana	hari ke	rencana
1		16	
2		17	
3		18	
4		19	
5		20	
6		21	
7		22	
8		23	
9		24	
10		25	
11		26	
12		27	
13		28	
14		29	
15		30	

mengetahui orangtua murid

\_\_\_\_\_

# bab 1

# mengenali diri sendiri



hari ini adalah hari senin  
hari ini hari pertama sekolah  
upacara bendera selesai  
semua murid masuk kelas  
semua murid gembira  
mereka mendapat teman baru

# a ayo berkenalan

ini hari pertama sekolah  
murid murid berkenalan



hai namaku dimas  
aku murid kelas satu  
umurku enam tahun  
aku dan keluargaku tinggal di jalan mendut



hai namaku siti  
aku murid kelas satu  
umurku enam tahun  
aku biasa dipanggil siti  
rumahku di jalan diponegoro  
siapa namamu  
di mana rumahmu

ayo perhatikan percakapan berikut



hai namaku nina amalia  
siapa namamu  
namaku leo lawalata  
aku biasa dipanggil leo  
apa nama panggilanmu  
aku biasa dipanggil nina  
aku tinggal di jalan mekar dua  
di mana rumahmu  
rumahku di jalan tunas enam  
ayo tunjukkanlah mana rumah nina  
tunjukkan juga mana rumah leo



## ayo kerjakan 1

ayo kenalkan dirimu kepada teman sebangkumu  
sebutkanlah namamu dan alamat rumahmu



# mengenal anggota tubuh

ayo bernyanyilah bersama temanmu

## marilah bernyanyi

### dua mata saya

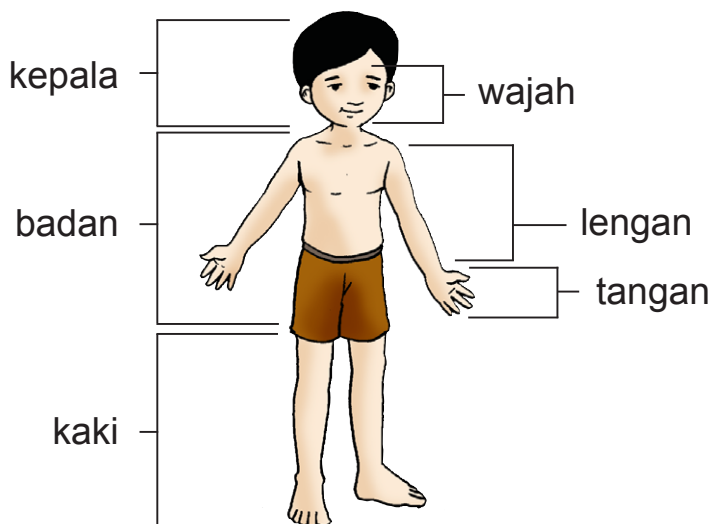
ciptaan pak kasur

dua mata saya  
hidung saya satu  
dua kaki saya  
pakai sepatu baru  
dua telinga saya  
yang kiri dan kanan  
satu mulut saya  
tidak berhenti makan

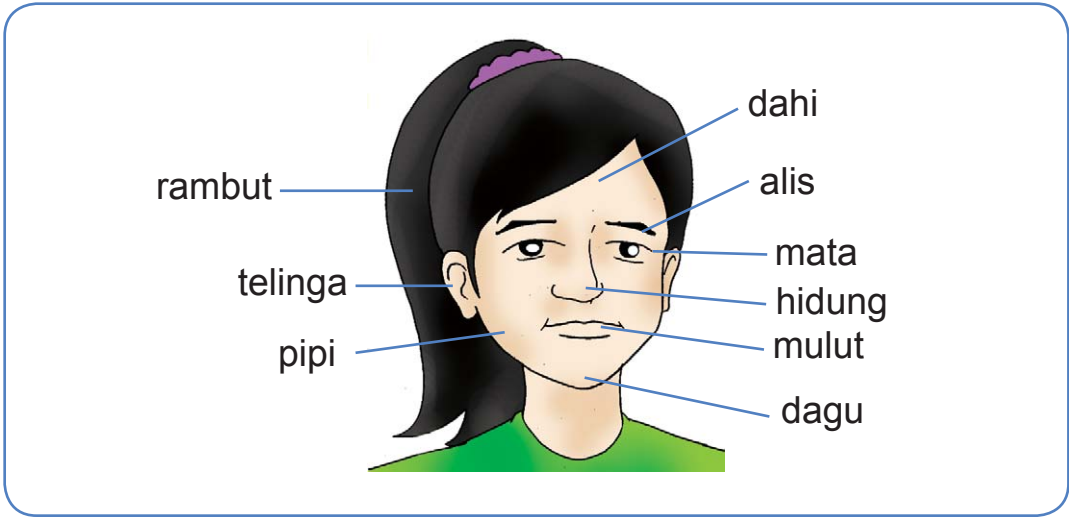


Sumber: [www.geocities.com](http://www.geocities.com)

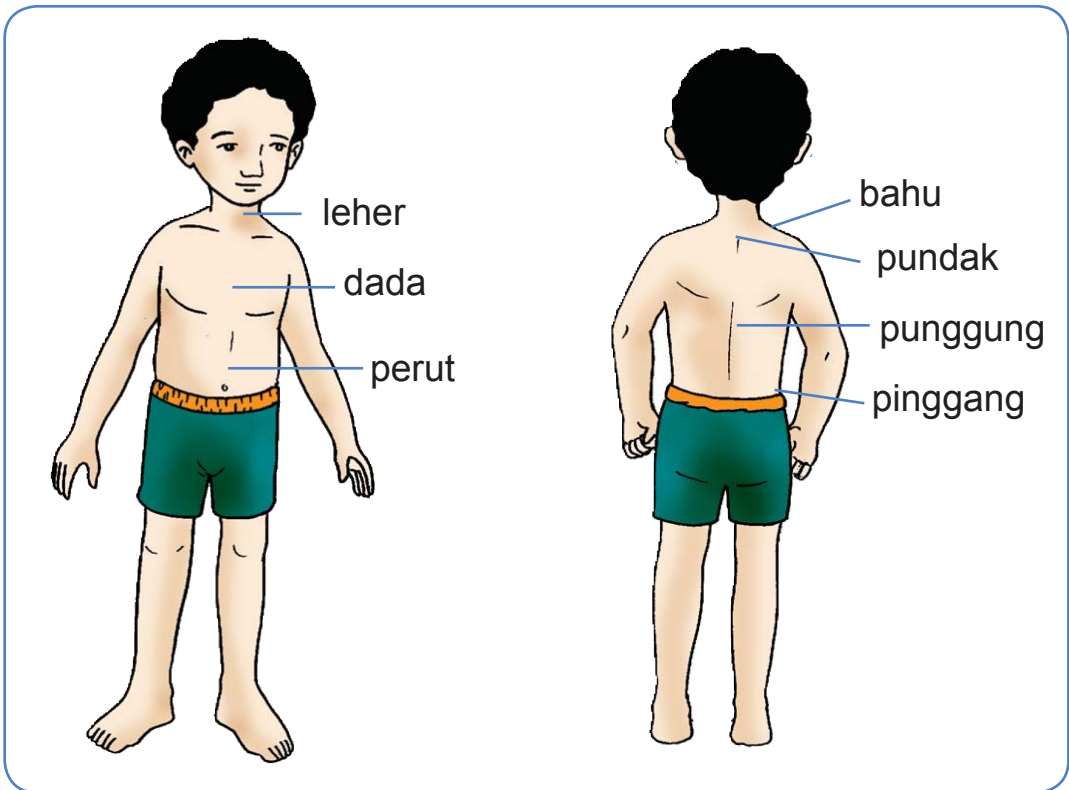
ayo perhatikan tubuhmu di cermin  
perhatikanlah bagian bagian tubuhmu



## bagian bagian kepala

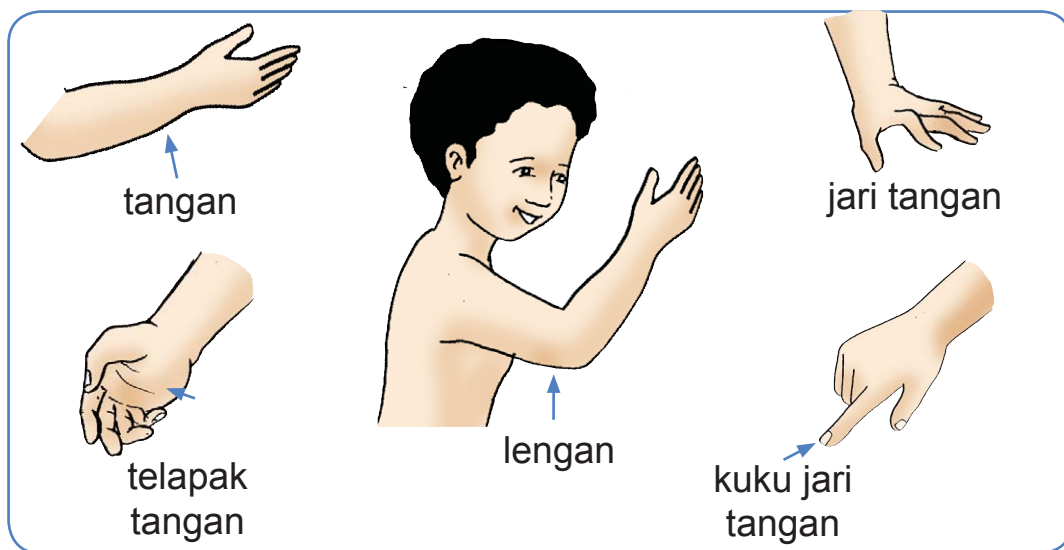


## bagian bagian badan

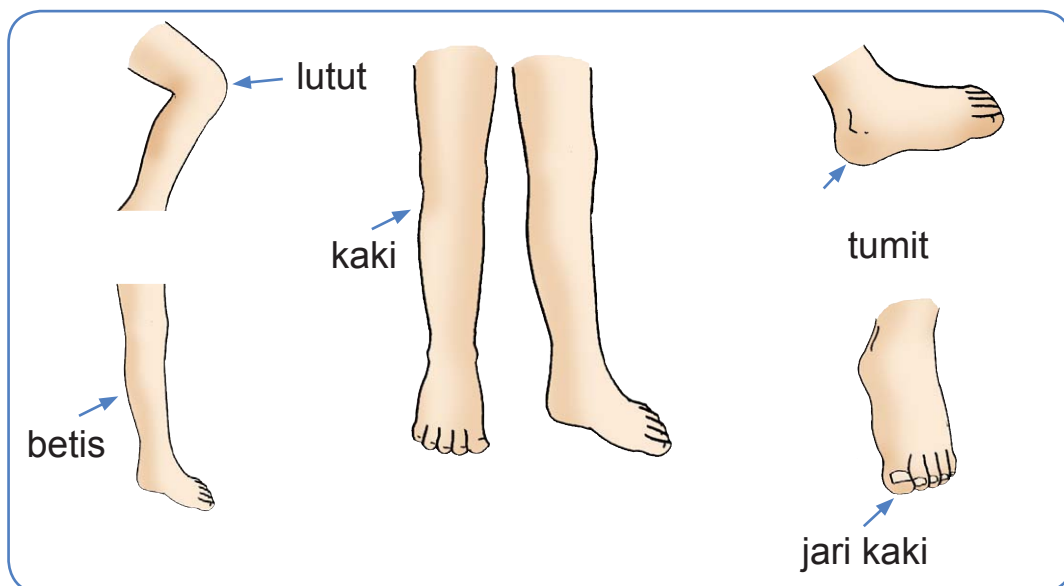




## bagian bagian lengan



## bagian bagian kaki



## ayo berlatih 1

ayo kerjakanlah di buku latihanmu  
pasangkanlah kata berikut dengan gambarnya  
cukup tuliskan angka dan huruf pasangannya  
contohnya 1= c

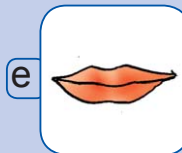


telinga 1

tangan 2

mulut 3

mata 4

hidung 5



## ayo berlatih 2

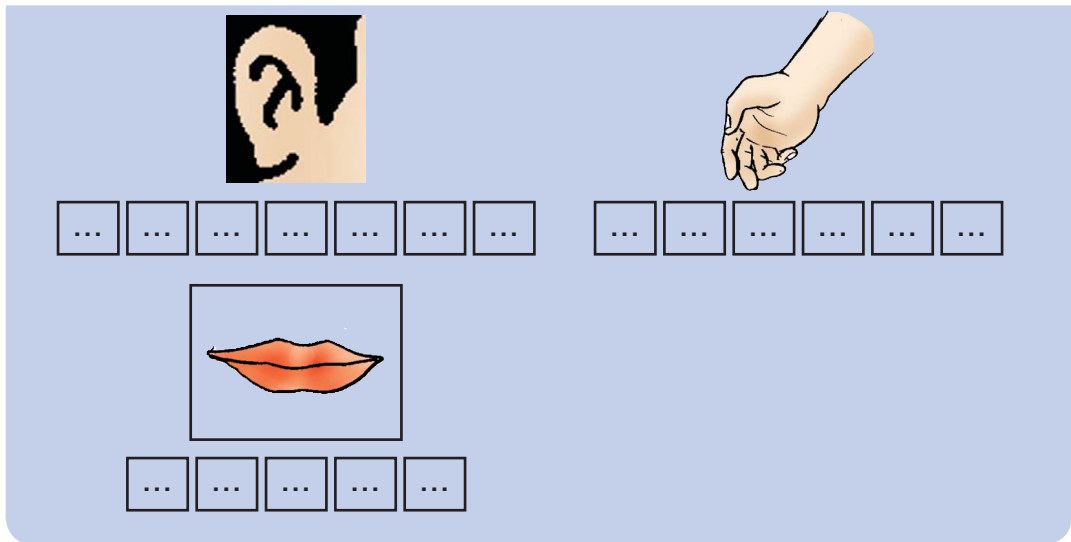
isilah kotak kotak berikut dengan huruf yang tepat  
gunakan pensil di buku latihanmu



m a t a



... ..



ayo perhatikan banyaknya anggota tubuh  
 mataku **sama banyak** dengan telingaku  
 hidungku **sama banyak** dengan mulutku  
 telingaku **lebih banyak** daripada hidungku  
 hidungku **lebih sedikit** daripada telingaku

### ayo berlatih 3

ayo kerjakanlah di buku latihanmu  
 buatlah tabel seperti berikut kemudian lengkapi

bagian tubuh	banyaknya	bagian tubuh	banyaknya
mata	dua	tangan	dua
hidung	...	hidung	...
alis	...	mulut	...
telinga	...	jari tangan	...



## kegunaan anggota tubuh

ayo peragakanlah olehmu

- kegunaan mata



pejamkanlah matamu  
dapatkah kamu melihat  
bukalah matamu  
dapatkah kamu melihat

kamu dapat melihat teman teman di kelasmu  
**mata** berguna untuk **melihat**

- kegunaan telinga

tutuplah telingamu dengan kedua tanganmu  
mintalah temanmu berbicara kepadamu  
dapatkah kamu mendengar suara temanmu  
sekarang bukalah telingamu  
mintalah temanmu berbicara kepadamu  
dapatkah kamu mendengar suara temanmu  
**telinga** berguna untuk **mendengar**



- kegunaan hidung

tutuplah hidungmu dengan tanganmu  
dapatkah kamu bernapas  
sekarang bukalah hidungmu  
kamu dapat bernapas kembali  
kamu juga dapat mencium aroma masakan  
**hidung** berguna untuk **bernapas** dan **mencium bau**



- kegunaan lidah

ambillah gula putih  
makanlah sedikit saja  
bagaimana rasanya  
gula terasa manis di lidah  
**lidah** berguna untuk **mencicipi rasa asin dan manis**  
lidah berguna untuk mencicipi rasa **asam** dan **pahit**

- kegunaan kaki

**kaki** untuk **berjalan**  
**kaki** untuk **berlari**  
**kaki** untuk **menendang**  
**kaki** untuk **menaiki tangga**



- kegunaan tangan

tangan untuk memegang  
tangan untuk menulis  
tangan untuk menarik  
tangan untuk mendorong  
tangan untuk menyuap makanan



- kegunaan rambut

apakah kegunaan rambut  
ayo perhatikanlah gambar berikut



dimas berambut  
lurus



siti berambut  
ikal



leo berambut  
keriting



nina berambut  
lurus


apakah kamu berambut ikal  
apakah kamu berambut lurus atau keriting  
kepalamu ditutupi rambut  
rambut melindungi kepalamu dari panas dan dingin

- **kegunaan gigi**

tanyakanlah kepada ibumu  
apakah makananmu ketika masih bayi  
kamu belum memiliki gigi ketika masih bayi  
kamu makan bubur



sekarang gigimu sudah tumbuh  
kamu tidak makan bubur lagi  
sekarang kamu sudah dapat mengunyah makanan dengan gigimu



- **kegunaan kulit**

lihatlah tangan dan kakimu  
lihatlah leher dan wajahmu  
semuanya ditutupi kulit  
semua anggota tubuhmu ditutupi kulit  
menurutmu apakah kegunaan kulit

**kulit** berguna **melindungi tubuhmu** dari kuman  
Kulit berguna melindungi tubuhmu dari cahaya matahari  
kulit juga berguna untuk merasa dan meraba

peganglah olehmu es balok  
kulit tanganmu akan merasa dingin  
peganglah olehmu segelas air panas  
kulit tanganmu akan merasa panas  
kulitmu akan merasa sakit jika tertusuk duri  
ayo sebutkanlah kegunaan bagian tubuh lainnya



## ayo cari tahu 1

### kegunaan kulit dan hidung

ayo lakukanlah kegiatan berikut  
masukkan buah buahan dalam dus  
tutuplah matamu dengan sapu tangan  
ambil salah satu buah dalam dus  
cium dan raba buah tersebut  
tebaklah buah apa itu





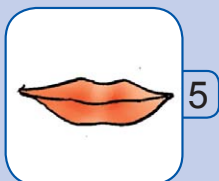

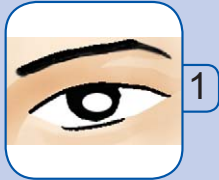


sekarang bukalah matamu  
apakah tebakanmu benar  
mengapa kamu dapat menebaknya



## ayo berlatih 4

ayo kerjakanlah di buku latihanmu  
pasangkanlah bagian tubuh dengan kegunaannya  
cukup pasangkan angka dengan huruf gambar  
contohnya 1= e





## cara merawat anggota tubuh

tubuhmu harus dirawat dengan baik agar tetap sehat

- **merawat mata**

bagaimana merawat mata jika pedih atau gatal  
mata jangan digosok

periksakanlah matamu ke dokter mata



bagaimana merawat mata agar matamu sehat  
kamu harus makan sayuran dan buah buahan

kamu harus lindungi matamu dari debu

kamu harus bersihkan matamu dengan air ketika mandi  
ketika menonton televisi jangan duduk terlalu dekat



- **merawat telinga**

bagaimana cara merawat telinga agar telingamu sehat

kamu harus bersihkan telingamu setiap selesai mandi

jangan mendengarkan suara yang terlalu keras



kamu harus bersihkan telingamu setiap minggu

jangan membersihkan telingamu sendiri

mintalah bantuan kakak atau orang tuamu

telinga dibersihkan dengan kapas

- **merawat kulit**

bagaimana cara merawat kulit

kulit yang sehat terlihat bersih dan cerah

kamu harus mandi dua kali sehari agar kulitmu sehat

kamu harus mandi pagi dan sore hari

setiap mandi gunakanlah sabun supaya kuman mati



- **merawat gigi**

bagaimanakah cara merawat gigi

kamu tidak dapat makan jika gigimu sakit

gosoklah gigimu agar gigimu sehat

gosoklah gigimu sebelum tidur dan setelah makan



## **tahukah kamu**

sewaktu bayi gigimu tumbuh

gigi itu disebut gigi susu

gigi susu ada 20 buah

gigi susu mulai tanggal sejak umur 6 tahun

gigi susu yang tanggal diganti gigi tetap

- merawat rambut

bagaimana cara merawat rambut  
rambut yang sehat terlihat rapi dan bersih  
rambut yang sehat tidak bau  
cucilah rambutmu agar rambutmu sehat  
cucilah rambutmu dua kali dalam satu minggu  
kamu harus mencuci rambut dengan sampo



- merawat tangan

bagaimanakah merawat tangan  
kuku ada di jari tanganmu  
lihatlah kukumu  
apakah kukumu panjang dan kotor  
kuku yang panjang dan kotor mengandung banyak kuman





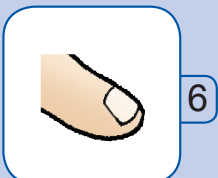

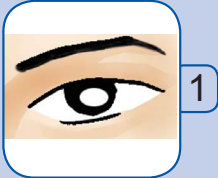


kamu harus mencuci tangan agar tangan mu bersih  
kamu harus mencuci tangan agar kukumu sehat  
cucilah tanganmu sepulang sekolah  
potonglah kukumu seminggu sekali  
tanganmu akan terlihat bersih dan rapi



## ayo berlatih 5

ayo kerjakanlah di buku latihanmu  
pasangkanlah bagian tubuh dengan alat untuk merawatnya  
cukup tuliskan angka dan huruf pasangannya  
contohnya 1 = h




## ayo pelajari kembali

kamu telah mempelajari bagian bagian tubuh dan kegunaannya  
kamu telah mempelajari cara merawat tubuh  
apakah kamu menemukan kesulitan ketika mempelajari bab ini  
tanyakanlah kepada teman atau gurumu jika ada kesulitan

## evaluasi bab 1

ayo kerjakanlah di buku latihanmu

- 1 tuliskanlah pada buku latihanmu nama lengkapmu  
tuliskanlah pada buku latihanmu alamat rumahmu
- 2 sebutkanlah jumlah anggota tubuh dari gambar berikut



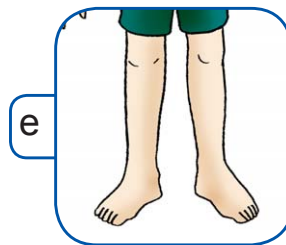
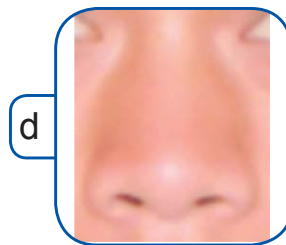
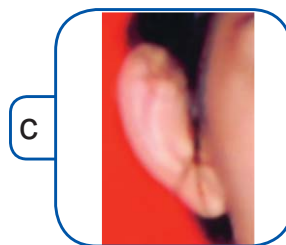
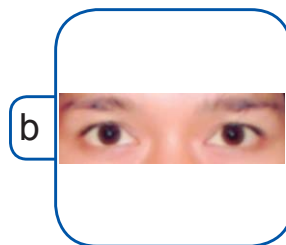
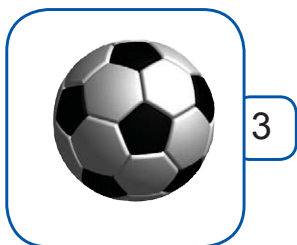


mata saya ada	<u>d</u> <u>u</u> <u>a</u>
hidung saya ada	— — — —
telinga saya ada	— — —
mulut saya ada	— — — —
tangan saya ada	— — —
kaki saya ada	— — —

banyak telinga saya s a m a dengan mata saya

banyak hidung saya \_ \_ \_ \_ dengan mulut saya

banyak tangan saya \_ \_ \_ \_ dengan kaki saya

3 pasangkan gambar berikut dengan kegunaan anggota tubuh cukup pasangkan angka dengan huruf gambar



#### 4 cara merawat tubuh



----- agar kulitmu bersih

----- sebelum makan



sebelum tidur aku selalu

-----

#### 5 ayo perhatikanlah gambar berikut



1



2



3



4



5


urutkanlah kegiatan di atas

urutan	pertama	kedua	ketiga	keempat	kelima
gambar	1	...	...	...	...



## ipa itu menyenangkan

tirulah gambar berikut pada buku gambarmu  
lalu warnai sesuai keinginanmu





# bab 2

# kebersihan dan kesehatan tubuh

setelah sekolah leo pulang ke rumah  
di rumah leo mengganti pakaian dengan pakaian bersih  
leo mencuci muka dan tangan

setelah itu leo makan siang bersama keluarganya  
leo makan nasi sayur dan lauk pauk  
badan leo kembali bugar  
mengapa leo merasa bugar kembali

# kebutuhan tubuh

ayo lihatlah siti leo dan nina



mereka sedang berolahraga  
mereka tampak sehat dan kuat  
apa yang kamu perlukan agar tubuhmu sehat

- kamu perlu makanan sehat

dimas selalu makan pagi sebelum berangkat ke sekolah  
dimas makan nasi sayur tempe dan ikan  
dimas juga makan buah buahan  
dimas makan teratur  
berat badan dan tinggi badan dimas selalu bertambah  
kamu perlu makanan agar kamu tumbuh sehat  
kamu perlu makanan yang sehat dan bergizi  
makanan sehat seperti nasi sayuran lauk pauk  
buah buahan dan susu juga merupakan makanan sehat



makanan apa yang kamu makan sebelum ke sekolah  
ayo tuliskanlah nama makanan berikut ini




n a s i



-----



-----



-----



-----

nasi mengandung karbohidrat  
nasi berguna sebagai sumber tenaga  
tenaga untuk melakukan kegiatan sehari hari



sumber: dokumentasi penulis;  
kamus visual, 2003

roti kentang gandum singkong mengandung karbohidrat  
sagu dan jagung juga mengandung karbohidrat



sumber: dokumentasi penulis;  
kamus visual, 2003

sayuran juga sangat baik bagi kesehatan dan pertumbuhan sayuran banyak mengandung vitamin dan mineral tahukah kamu apa saja sayuran itu bayam kangkung wortel tomat adalah sayuran



sumber: [www.asurancigna.com](http://www.asurancigna.com)

apakah kamu pernah makan daging atau ikan daging sapi dan ikan termasuk lauk pauk tempe tahu telur ayam juga termasuk lauk pauk lauk pauk mengandung protein protein diperlukan untuk pertumbuhan minumlah susu setiap hari



sumber: dokumentasi penulis; cd image

susu mengandung vitamin susu berguna untuk pertumbuhan tubuhmu bagaimana jika kamu makan makanan tidak sehat **ayo lihatlah gambar berikut**



hari ini siti tidak masuk sekolah karena sakit tubuh siti lemas siti jarang makan makanan sehat siti tidak mau minum susu



## ayo kerjakan 1

ayo bercerita di depan kelas  
ceritakanlah kegiatan leo setiap hari  
kegiatan leo mulai dari bangun pagi  
apa yang leo makan sebelum berangkat ke sekolah



## ayo berlatih 1

ayo kerjakanlah di buku latihanmu  
tuliskanlah nama lauk pauk berikut




d a g i n g  
s a p i



-----  
-----



-----



-----



-----

- kamu memerlukan air

ayo simaklah cerita berikut

dimas siti leo dan nina selesai berolahraga  
dimas siti leo dan nina merasa lelah  
mereka minum air putih

air diperlukan oleh tubuh  
untuk menghilangkan rasa haus



air mengandung mineral  
mineral sangat diperlukan untuk pertumbuhan  
dalam sehari kita perlu 8 gelas air



air yang kita minum harus dimasak  
air harus dimasak agar menjadi air sehat  
air minum yang tidak dimasak dapat menyebabkan sakit  
air minum yang tidak dimasak mengandung kuman penyakit



- kita perlu pakaian

setelah mandi kamu harus berpakaian  
pakaian berguna untuk melindungi tubuhmu dari kedinginan  
pakaian berguna untuk melindungi tubuhmu dari kuman  
pakaian yang kamu pakai sesuaikan dengan kegiatanmu



## ayo berlatih 2

ayo tirulah gambar pakaian berikut  
tuliskan kegiatan yang sesuai dengan pakaian tersebut  
kerjakanlah di buku latihanmu



o l a h r a g a    \_ \_ \_ \_ \_    \_ \_ \_ \_ \_    \_ \_ \_ \_ \_

- kita memerlukan lingkungan yang bersih dan sehat  
rumah kamar tidurmu dan sekolahmu merupakan lingkungan  
bagaimana lingkungan yang sehat dan bersih itu  
tubuhmu akan sehat jika lingkunganmu sehat dan bersih

ayo amatilah gambar berikut

lingkungan bersih tidak ada sampah di mana mana  
lingkungan yang bersih membuat udara bersih dan segar  
udara yang bersih membuat pernapasanmu lebih lega





bagaimana lingkungan yang kotor itu

**ayo amatilah gambar berikut**

sampah ada di mana mana dan berbau busuk  
udara menjadi kotor sehingga mengganggu pernapasan  
air kotor dapat menyebabkan kulitmu gatal gatal  
lingkungan kotor dapat menjadi sumber penyakit  
tubuhmu akan sakit jika lingkunganmu kotor



**ayo perhatikanlah cerita keluarga nina berikut**

nina dan keluarganya berolahraga setiap hari minggu  
mereka berolahraga di depan rumah  
selesai berolahraga mereka membersihkan rumah dan lingkungannya



nina menyapu halaman rumah  
ibu nina membersihkan kamar mandi  
ayahnya membersihkan parit  
kakaknya merapikan tanaman



## ayo kerjakan 2

apa kegiatan keluargamu pada hari minggu  
ceritakanlah di depan kelas

# b membiasakan hidup sehat

## ayo menyimak cerita berikut

hari minggu dimas siti leo dan nina berolahraga  
setelah berolahraga mereka beristirahat  
dimas membawa empat potong kue  
**satu** kue untuk dimas  
**tiga** kue lainnya untuk siti leo dan nina



dimas mengajak teman temannya mencuci tangan  
setelah mencuci tangan mereka makan kue



dimas membuang sampah ke tempat sampah setiap hari  
dimas selalu membiasakan hidup sehat  
apakah kamu sudah melakukan kebiasaan hidup sehat



ketika bermain kamu menyentuh banyak benda  
benda yang disentuh ada yang kotor  
benda yang kotor mengandung kuman  
kuman akan menempel di tangan  
kuman akan ikut termakan jika tidak mencuci tangan  
cucilah tanganmu sebelum makan

kotoran juga menempel di kakimu  
cucilah kakimu agar bersih dan tidak gatal

ayo amatilah gambar berikut



biasakanlah berolahraga secara teratur  
olahraga dapat membuat tubuhmu sehat dan bugar  
jika tubuhmu lelah tubuhmu perlu istirahat  
istirahat yang baik adalah tidur



lama tidur yang baik delapan jam sehari  
setelah tidur tubuhmu segar kembali

### ayo berlatih 3

ayo salinlah di buku latihanmu  
isilah dengan kata yang tepat

pada malam hari nina \_\_\_\_\_ di tempat tidur  
setiap hari minggu dimas \_\_\_\_\_  
di alun alun kota  
siti membuang sampah di \_\_\_\_\_  
dimas \_\_\_\_\_ menggunakan sabun mandi  
nina \_\_\_\_\_ menggunakan pasta gigi  
sebelum makan leo \_\_\_\_\_ tangannya

## tahukah kamu

beberapa hewan menyebarkan kuman penyakit  
contohnya lalat dan kecoak  
lalat dan kecoak hidup di tempat kotor  
di tubuh mereka menempel kuman penyakit  
lalat dan kecoa menyebarkan kuman penyakit  
kamu dapat terkena penyakit  
jika makanamu mengandung kuman

## ayo pelajari kembali

kamu telah mempelajari kesehatan dan kebersihan tubuh  
apakah kamu menemukan kesulitan ketika mempelajari bab ini  
jika ada kesulitan tanyakanlah kepada teman atau gurumu

# evaluasi bab 1

ayo kerjakanlah di buku latihanmu

1 ayo tuliskanlah jenis makanan sehat



-----  
-----



-----  
-----



-----



-----  
-----



-----  
-----



-----

2 ayo lengkapilah kalimat berikut

dimas mencuci -----  
dan ----- setelah bermain





dimas makan \_ \_ \_ \_  
 \_ \_ \_ \_ dan \_ \_ \_ \_

leo haus setelah berolahraga  
 leo minum segelas \_ \_ \_



3 urutkan kegiatan berikut  
 kemudian jelaskanlah olehmu



1



2



3



4

urutan	pertama	kedua	ketiga	keempat
gambar	...	...	...	...

4 ayo pilih dan tuliskanlah makanan yang sehat



a



b



c



d



e



f



g



h

5 siti akan makan  
apa yang harus siti lakukan sebelum makan  
pilihlah gambar yang tepat



a



b



c



## ipa itu menyenangkan

ayo temukanlah 10 kebutuhan tubuh dalam kotak berikut

c	a	n	a	s	i	d	a	i	r
l	d	a	n	g	k	o	r	s	o
a	t	o	n	i	a	s	g	n	s
u	c	l	o	c	n	g	s	o	p
k	g	a	l	t	e	l	u	r	a
p	o	h	n	l	i	g	s	t	k
a	m	r	n	b	d	j	u	k	a
u	l	a	d	a	g	i	n	g	i
k	e	g	f	x	z	o	v	y	a
b	u	a	h	b	u	a	h	a	n

# bab 3

# memelihara lingkungan



hari ini murid murid kerja bakti  
semua murid bergotong royong membersihkan ruangan kelas  
semua murid bergotong royong membersihkan lingkungan sekolah  
leo dimas nina dan siti ikut membersihkan kelas  
pernahkah kamu membersihkan kelasmu  
mengapa lingkungan harus bersih



# lingkungan sehat dan tidak sehat

- lingkungan sehat



bagaimana lingkungan sehat itu  
lingkungan sehat selalu bersih dan terawat  
lingkungan bersih tidak ada sampah di mana mana  
lingkungan yang bersih tidak ada debu di jendela  
tanaman dipelihara semuanya indah dilihat  
tubuhmu akan sehat jika lingkunganmu sehat

ayo menyimak cerita berikut



dimas dan keluarga selalu menjaga kebersihan  
mereka menjaga kebersihan lingkungan rumah



dimas menyapu halaman pada hari minggu  
dimas juga menyapu halaman pada hari libur  
kakaknya menyirami tanaman  
kemudian dimas membersihkan kamar mandi

bagaimana dengan lingkungan rumahmu  
apakah lingkungan rumahmu sehat



rumah yang sehat memiliki jendela  
udara bersih masuk ke ruangan melalui jendela

sumber : dokumentasi penulis

- lingkungan tidak sehat

bagaimana lingkungan yang tidak sehat itu

**ayo amatilah gambar berikut**

pernahkah kamu berjalan melewati tumpukan sampah  
apa yang tercium olehmu  
sampah dapat menyebabkan lingkungan tidak sehat  
sampah dapat menyebabkan lingkungan tidak bersih  
sampah yang menumpuk dapat menimbulkan bau tidak sedap  
sampah yang menumpuk tidak indah dipandang



sumber : [www.tempo.co.id](http://www.tempo.co.id)

kamar mandi yang tidak dirawat dindingnya kotor  
barang barang ada di mana mana  
kamar mandi seperti itu tidak sehat




## ayo berlatih 1

ayo memilih lingkungan sehat dan lingkungan tidak sehat



1



2



3



4

## tahukah kamu

sampah yang dibuang ke sungai dapat menimbulkan banjir  
sampah yang dibuang ke selokan dapat menimbulkan banjir  
sampah menutup aliran air jika terjadi hujan lebat  
air sungai meluap dan dapat terjadi banjir  
selokan pun tersumbat sampah

## b cara memelihara lingkungan

bagaimana keadaan lingkungan rumahmu  
apakah lingkungan dan rumahmu sudah bersih



buanglah sampah pada tempatnya agar lingkunganmu bersih  
setiap hari kamu harus menyapu dan mengepel lantai  
kaca jendela dibersihkan  
kamar mandi juga dibersihkan

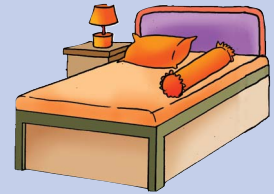


## ayo berlatih 2

ayo melengkapi kalimat

leo anak baik

ia selalu merapikan \_ \_ \_ \_ \_



ia selalu membuang \_ \_ \_ \_ \_ pada tempatnya

ia selalu menjaga lingkungan agar selalu bersih

bersih itu sehat

bersih itu indah



ayo amatilah halaman rumahmu

adakah kebun atau taman di halaman rumahmu

apakah kebun atau tamanmu dirawat dengan baik

tanaman harus dirawat setiap hari

tanaman harus disirami agar tumbuh dengan subur

tanaman juga diberi pupuk agar tanaman tumbuh

tanaman juga harus diberi pupuk agar tumbuh subur



## ayo berlatih 3

ayo amatilah gambar berikut




tanaman manakah yang tidak dirawat

apakah kamu memiliki binatang piaraan  
selain tanaman binatang juga harus dirawat

apakah di rumahmu ada akuarium  
apakah kamu memelihara burung di dalam sangkar  
tanyakanlah kepada orang tuamu  
bagaimanakah cara memelihara binatang piaraan itu

binatang piaraan perlu dirawat  
binatang piaraan harus diberi makan dan minum  
binatang piaraan juga harus dibersihkan tempatnya  
binatang piaraan harus diperiksa dokter hewan jika sakit





## ayo pelajari kembali

kamu telah mempelajari cara memelihara lingkungan apakah kamu menemukan kesulitan ketika mempelajari bab ini jika ada kesulitan tanyakanlah kepada teman atau gurumu

## evaluasi bab 3

kerjakanlah di buku latihanmu

1 pilihlah gambar yang menunjukkan rumah sehat



a



b

2 gambar manakah yang menunjukkan lingkungan yang sehat



a



b

3 ayo melengkapi kalimat sesuai dengan gambar



leo anak yang patuh dan taat  
setiap hari leo bangun pagi merapikan \_\_\_\_\_



kemudian leo mandi dan \_\_\_\_\_



leo selalu membantu ibu menyiram \_\_\_\_\_ setiap sore



leo membuang sampah ke \_\_\_\_\_




Leo merawat binatang piaraan setiap hari minggu  
leo selalu memberi makan \_\_\_\_\_

4 pilihlah kegiatan yang memelihara lingkungan



a



b



c



d



e



f

5 tirulah gambar berikut

tambahkan benda yang diperlukan untuk memelihara hewan tersebut kemudian warnailah olehmu



## ipa itu menyenangkan

temukanlah 10 perbedaan antara gambar a dan b  
kemudian lingkarilah perbedaan pada gambar a dan b





di kamar nina ada banyak benda  
bentuknya bermacam macam  
ada yang berbentuk kotak ada yang bulat  
warna dan ukurannya juga berbeda beda  
ayo mengenal ciri ciri benda di sekitarmu  
bagaimana bentuk benda yang ada di kelasmu  
bagaimana warna dan ukurannya

# a ciri ciri benda

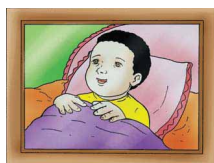
ayo mengamati benda di sekitarmu

di dalam kelas ada buku dan kapur tulis  
di dalam kelas ada meja dan papan tulis  
benda benda tersebut ada yang besar dan kecil  
bentuk ukuran dan warnanya juga berbeda beda



- bentuk benda

bentuk benda berbeda beda  
ada yang persegi kotak tabung lingkaran bundar  
ayo perhatikanlah bentuk benda berikut  
bentuk benda tersebut beraturan



persegi



kotak



tabung





lingkaran



bundar

ayo mengamati benda berikut

samakah bentuk benda benda dalam setiap kotak



sumber: dokumentasi penulis; [www. keeswart. nl](http://www.keeswart.nl); [budget stock photo. com](http://budget stock photo. com)

ada juga bentuk benda yang tidak beraturan

ayo mengamati gambar berikut



sumber: dokumentasi penulis; kamus visual, 2003

bentuk benda benda tersebut tidak beraturan  
ayo temukanlah bentuk benda lain yang tidak beraturan

- warna benda

warna benda berbeda beda



sumber: dokumentasi penulis; kamus visual, 2003

warna kuning pada pisang

warna jingga pada wortel

warna merah pada apel


warna hijau pada daun

warna pada buah buahan disebut warna alami

warna pada tumbuhan disebut warna alami



ayo mengamati gambar berikut



warna pada benda benda tersebut disebut **warna buatan**

### ayo kerjakan 1

ayo ceritakanlah di depan kelas  
apakah warna sepatumu  
apakah warna pakaian seragammu  
apakah warna tasmu  
adakah warna alami dari benda di sekitarmu

#### • ukuran benda

ukuran benda berbeda  
ukuran benda ada yang kecil  
ukuran benda ada yang besar

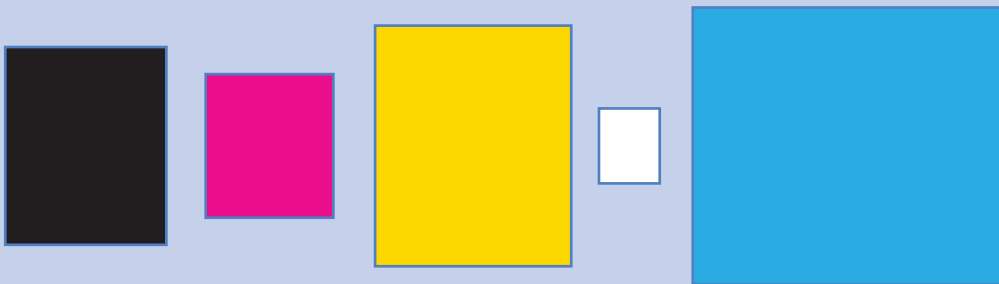


sumber: dokumentasi penulis; budgetstockphoto. com

penghapus pensil **lebih kecil** daripada tempat pensil  
lemari **lebih besar** daripada tempat pensil

## ayo berlatih 1

urutkanlah gambar berikut  
urutkan dari gambar paling kecil hingga paling besar



tuliskan urutan warnanya berdasarkan urutan ukuran  
kerjakan di buku latihanmu

ada benda yang panjang  
ada benda yang pendek  
pensil **lebih pendek** daripada penggaris  
pensil **lebih panjang** daripada bolpoin  
benda apakah yang paling panjang



sumber: dokumentasi penulis

## ayo kerjakan 2

ayo kerjakanlah di buku latihanmu  
pasangkanlah benda yang sama bentuknya  
cukup tuliskan angka dan huruf benda pasangannya  
contohnya 1 = c




1




2



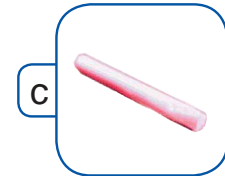
3



a



b



c

ayo temukan perbedaannya

berilah tanda  jika kamu menemukan perbedaan

berilah tanda  jika tidak ada perbedaan



bentuknya

ukuran

warnanya



bentuknya

ukuran

warnanya



## ayo kerjakan 3

ayo kerjakanlah di buku latihanmu  
urutkanlah dari benda **terbesar** ke benda **terkecil**



jeruk bali



rambutan



apel



durian

urutan

- 1 \_\_\_\_\_
- 2 \_\_\_\_\_
- 3 \_\_\_\_\_
- 4 \_\_\_\_\_

### • bau benda

benda ada yang memiliki bau  
ada juga benda yang tidak memiliki bau  
contoh benda yang memiliki bau



bunga



sabun



sampo

sumber: dokumentasi penulis; [www.3k.c2](http://www.3k.c2)

ayo temukanlah benda lainnya yang memiliki bau

contoh benda yang tidak memiliki bau



sumber: dokumentasi penulis; [www.dnet.net.id](http://www.dnet.net.id)

ayo temukanlah benda lain yang tidak memiliki bau  
bagaimana dengan buah buahan  
buah buahan ada yang memiliki bau

buah yang segar dan matang baunya harum



sumber: [www.stockphoto.com](http://www.stockphoto.com)

buah yang busuk baunya tidak sedap



sumber: [www.standdonfamily.com](http://www.standdonfamily.com)



sumber: [www.kompas.com](http://www.kompas.com)

seledri

sayuran juga ada yang memiliki bau

## ayo berlatih 2


ayo mengelompokkan benda  
salinlah tabel berikut di buku latihanmu  
masukkan nomor benda sesuai dengan kelompoknya

berbau	tidak berbau	1	2	3	4	5
7	4					
...	...					
...	...					
...	...	6	7	8	9	10
...	...					

benda yang memiliki bau ada \_\_\_\_\_ buah  
benda yang tidak memiliki bau ada \_\_\_\_\_ buah

### • permukaan benda

tahukah kamu permukaan benda  
ayo raba lah permukaan meja di ruang kelasmu  
apakah kasar atau halus



permukaan benda ada yang halus  
permukaan kaca halus

ada juga permukaan benda yang kasar  
permukaan batu kasar




sumber: dokumentasi penulis


ayo amatilah gambar berikut



lantai



bata



buku



piring



tas

lantai buku dan piring memiliki permukaan yang **halus**  
bata dan tas memiliki permukaan yang **kasar**

- **rasa benda**

benda ada yang memiliki rasa  
ada juga benda yang tidak memiliki rasa  
rasa benda ada yang **manis** dan **asin**  
rasa benda ada yang **asam pedas** dan **pahit**



gula rasanya manis

sumber:  
dokumentasi penulis

garam rasanya asin



sumber: dokumentasi penulis



Sumber: dokumentasi penulis

jeruk nipis rasanya asam



sumber: dokumentasi penulis

sambal rasanya pedas



sumber: dokumentasi penulis

daun pepaya rasanya pahit

berikut ini benda yang tidak memiliki rasa



sumber: dokumentasi penulis



### ayo berlatih

3

ayo mengelompokkan rasa benda  
tuliskanlah benda yang rasanya manis asin pedas pahit  
tuliskanlah benda yang tidak ada rasanya  
kerjakanlah di buku latihanmu



benda pedas

...



benda manis

...



benda pahit

...



benda asin

...



benda tidak ada rasa

...

### ayo berlatih

4

ayo berjalan di lingkungan rumahmu dan lingkungan sekolahmu




ayo menyebutkan benda yang ada di lingkungan rumahmu  
ayo menyebutkan benda yang ada di lingkungan sekolahmu  
sebutkanlah bentuk ukurannya warnanya dan baunya



# bentuk benda dapat berubah

## ayo bermain dengan benda di sekitarmu

ambillah sehelai kertas  
remaslah kertas tersebut  
bagaimanakah bentuk kertas tersebut sekarang  
kertas berubah bentuk jika diremas



sumber: dokumentasi penulis

## ayo lakukanlah kegiatan

### ayo cari tahu 1

sediakanlah botol plastik bekas air mineral  
kemudian botol diremas  
apakah bentuknya tetap  
tuliskan hasil pengamatanmu  
botol plastik sebelum diremas berbentuk \_\_\_\_\_  
botol plastik setelah diremas berbentuk \_\_\_\_\_



sediakanlah pisau  
ambillah sebuah tomat  
dengan bantuan gurumu belahlah tomat dengan pisau  
bagaimana bentuk tomat  
tuliskanlah hasil pengamatanmu  
tomat sebelum dipotong berbentuk \_\_\_\_\_  
tomat setelah dipotong berbentuk \_\_\_\_\_



benda berubah bentuk jika diberi perlakuan  
kapur menjadi bubuk jika ditumbuk  
bola berubah bentuk jika dikempeskan  
balok kayu berubah bentuk jika dipatahkan

## ayo berlatih 5

ayo mengamati benda di lingkungan sekolahmu  
tuliskanlah benda yang dapat berubah bentuknya  
bagaimana pula cara mengubah bentuk benda tersebut  
kerjakanlah di buku latihanmu

## tahukah kamu

benda seperti plastisin dan tanah liat mudah dibentuk  
plastisin terbuat dari lilin yang lembek  
plastisin cukup kaku untuk dibentuk  
tanah liat berupa tanah yang mudah dibentuk  
tanah liat dapat mengeras jika dipanaskan  
tanah liat dapat dibuat menjadi aneka kerajinan



sumber: dokumentasi penulis



## kegunaan benda

benda benda di sekitarmu memiliki kegunaan

ayo tuliskanlah kegunaan benda berikut



kursi berguna untuk duduk

lemari berguna untuk menyimpan pakaian



rumah berguna untuk berlindung

bolpoin berguna untuk menulis



piring dan sendok berguna untuk makan

- kegunaan benda di rumah

dapatkan kamu menyebutkan kegunaan benda di rumahmu  
di rumahmu ada meja kursi jendela dan lemari



## ayo berlatih 6

ayo kerjakanlah di buku latihanmu  
ayo menyebutkan nama benda benda di rumahmu  
kemudian tuliskanlah kegunaan benda benda tersebut

benda	kegunaan
kursi	tempat duduk
meja	...
lemari	...
jam dinding	...
telepon	...
televisi	...
radio	...

- kegunaan benda di sekolah

ayo mengamati benda benda di kelas  
dapatkan kamu menyebutkan kegunaan benda benda di kelasmu



## ayo berlatih 7

ayo lengkapilah nama benda berikut di buku latihanmu



j ... .. d ... n ... .. n ...



k ... .. e ... d ... ..



... a ... a ... t ... l ... ..

## ayo pelajari kembali

kamu telah mengenal benda di sekitarmu  
apakah kamu menemukan kesulitan ketika mempelajari bab ini  
jika ada kesulitan tanyakanlah kepada teman atau gurumu

## evaluasi bab 4

### kerjakanlah di buku latihanmu

- 1 setiap benda memiliki bentuk dan warna  
ayo lengkapilah tabel berikut

	benda	warna	bentuk	permukaannya
a	 buku	biru	-----	-----
b	 bola	-----	bundar	halus
c	 baterai	hitam	-----	-----
d	 papan tulis	-----	persegi	kasar

- 2 ayo tuliskan nomor benda yang memiliki rasa



1



2



3

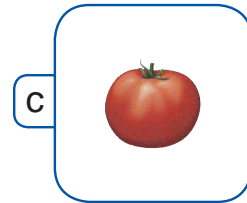

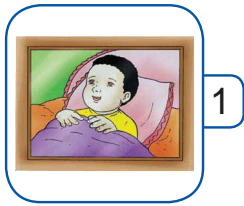


4



5


3 ayo pasangkanlah benda yang bentuknya sama  
tuliskan nomor dan huruf gambar pasangannya



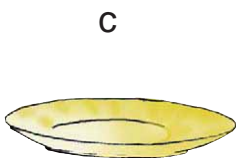
4 ayo tuliskanlah warna benda berikut



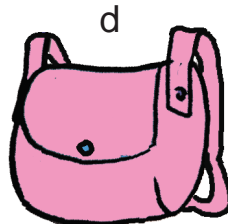
warnanya \_ \_ \_ \_



warnanya \_ \_ \_ \_



warnanya \_ \_ \_ \_



warnanya \_ \_ \_ \_



5 ayo tuliskanlah nama benda yang memiliki bau




sabun



pensil



bolpoin



buku



ember



bunga

6 ayo tuliskanlah rasa benda berikut




gula rasanya \_ \_ \_ \_ \_

sirup rasanya \_ \_ \_ \_ \_

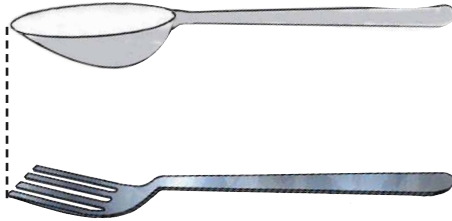


jeruk rasanya \_ \_ \_ \_ \_

7 ayo melengkapi kalimat berikut ini  
apakah **lebih panjang lebih pendek** atau **sama panjang**





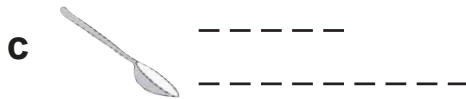

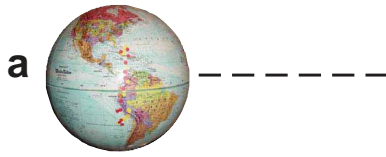
penggaris \_\_\_\_\_ daripada sisir  
sisir \_\_\_\_\_ daripada penggaris



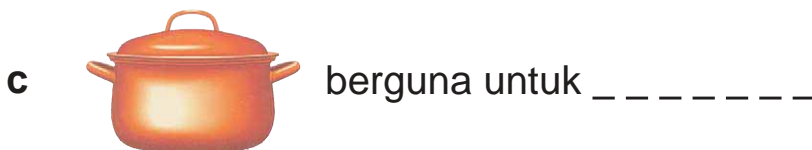
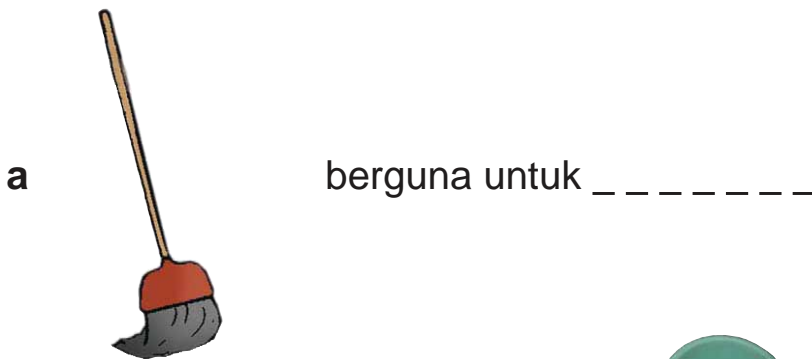
sendok \_\_\_\_\_ dengan garpu

8 ayo menebak benda  
aku adalah benda berbentuk lingkaran  
aku dipakai setiap hari  
warnaku beraneka ragam  
aku terbuat dari kaca atau keramik  
aku dapat juga terbuat dari plastik  
permukaanku halus  
aku digunakan untuk makan  
aku adalah \_ \_ \_ \_ \_


9 ayo tuliskanlah bentuk benda benda berikut



10 ayo tuliskanlah kegunaan benda berikut



d berguna untuk \_\_\_\_\_



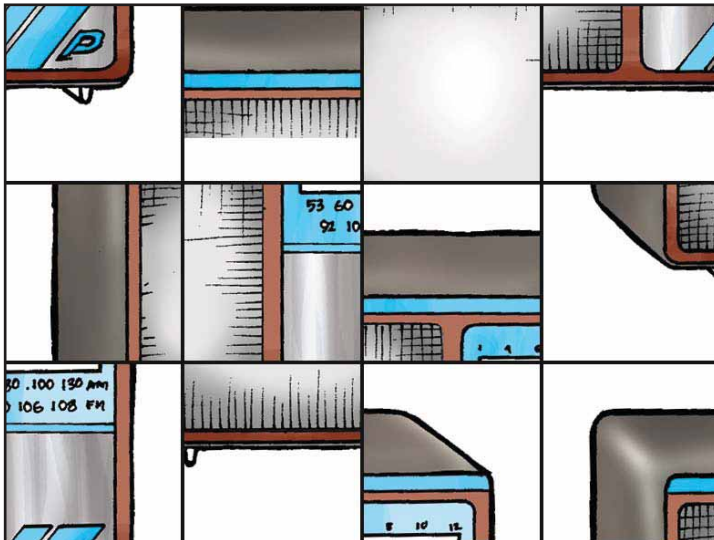
e \_\_\_\_\_  
berguna untuk \_\_\_\_\_

f \_\_\_\_\_  
berguna untuk \_\_\_\_\_



### ipa itu menyenangkan

ayo tebaklah aku  
aku adalah benda yang dapat bersuara  
aku disukai setiap orang  
fotokopi gambar berikut  
kemudian guntinglah gambar tersebut  
susunlah gambar tersebut sehingga membentuk suatu gambar benda  
benda apakah aku



# evaluasi semester 1

## kerjakanlah di buku latihanmu

1 ayo tuliskan kegunaan bagian tubuh berikut



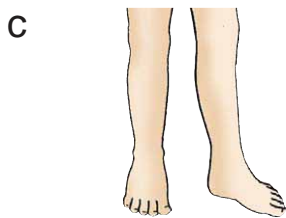
kegunaannya untuk

-----



kegunaannya untuk

-----



kegunaannya untuk

-----



kegunaannya untuk

-----

2 apa yang harus dilakukan jika tubuh merasa lelah



a



b



c

3 salin dan lengkapi kalimat berikut

a nasi mengandung \_\_\_\_\_

b jika haus minum \_\_\_\_

c \_\_\_\_\_ tangan sebelum makan

d membuang sampah di \_\_\_\_\_

4 pilihlah cara menjaga lingkungan sehat yang benar



tuliskan  jika  
kamu memilih  
gambar ini



tuliskan  jika  
kamu memilih  
gambar ini



tuliskan  jika  
kamu memilih  
gambar ini

5 pilihlah lingkungan yang sehat



a





b




c

6 ayo salinlah dan lengkapi pertanyaan berikut

a  digunakan untuk \_\_\_\_\_

b  digunakan untuk \_\_\_\_\_

c  digunakan untuk \_\_\_\_\_

7 pasangkan tempat dengan makanan binatang piaraan berikut tuliskanlah angka huruf dan simbol gambar pasangannya

binatang

tempat  
piaraan

makanan



burung



akuarium



cacing



kucing



sangkar



pisang



anjing



kursi



ikan



ikan hias

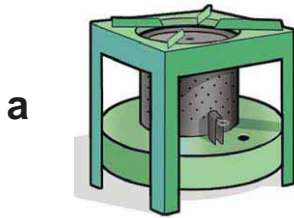


kandang



daging


8 tuliskan warna benda benda berikut



-----



-----



-----



-----



-----



9 tuliskan bentuk benda berikut



-----

-----



-----

-----

10 tuliskan nama dan kegunaan benda berikut




a

b

c

d

e



f

g

h

i

j

### mengamati bentuk bentuk bulan

amatilah bentuk bulan pada malam hari yang cerah  
kegiatan ini dikerjakan satu kali dalam satu minggu  
kegiatan dikerjakan selama satu bulan

lakukanlah langkah langkah berikut

- 1 buatlah tabel pengamatan bentuk bulan pada kertas polos
- 2 amatilah bentuk bulan pada hari pengamatan  
beri tanda  $\checkmark$  jika pengamatanmu sesuai gambar
- 3 kumpulkan hasil pengamatanmu kepada gurumu  
jangan lupa mencantumkan tanggal awal pengamatanmu  
jangan lupa mencantumkan juga tanggal akhir pengamatanmu

#### catatan

lakukanlah pengamatan hanya pada malam yang cerah  
lakukan pada jam yang sama  
misalnya pada pukul 7 malam  
mintalah bantuan pada kakak atau orang tuamu

contoh tabel pengamatan di balik halaman ini

hasil pengamatan	bentuk bulan				
	bulan mati atau bulan baru	bulan sabit	bulan setengah	bulan tiga perempat atau bulan bungkuk	bulan purnama
					

minggu ke 1 hari .... tanggal ....					
minggu ke 2 hari .... tanggal ....					
minggu ke 3 hari .... tanggal ....					
minggu ke 4 hari .... tanggal ....					



## gerak benda

leo dan dimas pulang sekolah  
mereka melihat mobil mogok di jalan  
mobil itu sedang didorong oleh tiga orang dewasa  
leo dan dimas ikut membantu mendorong mobil  
akhirnya mobil dapat bergerak lagi  
apa yang mereka lakukan sehingga mobil dapat bergerak



# benda mudah bergerak dan benda sulit bergerak

ayo amatilah gambar berikut



pada hari minggu  
dimas nina siti dan leo bersepeda ke taman  
mereka bersepeda pada hari minggu  
beberapa anak sedang bermain di taman



ada yang bermain bola  
ada yang bermain mobil mobilan  
ada yang bermain kelereng  
ada yang bermain layang layang

ayo perhatikan permainan pada gambar  
ada benda yang bergerak  
ada benda yang tidak bergerak

- benda yang mudah bergerak

ayo amatilah bentuk roda sepeda

bagaimana bentuk roda sepeda  
roda sepeda berbentuk lingkaran  
apakah roda sepeda mudah bergerak  
roda sepeda mudah bergerak karena berbentuk lingkaran



sumber: [www.ecoproduct.co](http://www.ecoproduct.co)

bagaimana bentuk bola  
bola berbentuk bundar  
apakah bola mudah bergerak  
bola mudah bergerak karena bentuknya bundar



sumber: [images.google.co.id](https://images.google.co.id)

• **benda yang sulit bergerak**  
pernahkah kamu melihat dadu  
dadu digunakan dalam permainan ular tangga  
bagaimana bentuk dadu  
dadu berbentuk kotak  
apakah dadu mudah bergerak



sumber: [www.oitc.com](http://www.oitc.com)

## ayo berlatih 1

kerjakan di buku latihanmu  
ayo menuliskan sifat benda  
apakah benda mudah bergerak atau sulit bergerak



mudah bergerak



\_\_\_\_\_



\_\_\_\_\_



\_\_\_\_\_

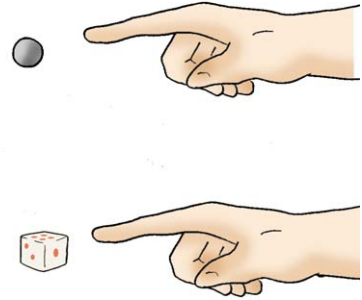
## ayo cari tahu 1

ayo lakukanlah kegiatan berikut  
sediakanlah kelereng dan dadu  
doronglah kelereng di lantai  
doronglah dadu di lantai  
benda mana yang mudah bergerak

\_\_\_\_\_

benda mana yang sulit bergerak

\_\_\_\_\_



benda bulat lebih mudah bergerak daripada benda kotak  
ayo menyebutkan benda yang bentuknya kotak selain dadu



peti



kotak pensil

sumber: dokumentasi penulis ; [www.centurynovelty.com](http://www.centurynovelty.com)

sebutkan benda lain di sekitarmu yang bentuknya kotak

## ayo berlatih 2

ayo menuliskan bentuk benda berikut



\_\_\_\_\_



\_\_\_\_\_



\_\_\_\_\_



\_\_\_\_\_



\_\_\_\_\_



\_\_\_\_\_

## **b** mengamati gerak benda

pernahkah kamu bermain sepak bola  
dalam sepak bola bola digerakkan dengan cara **ditendang**



bagaimana cara menggerakkan mobil mobilan  
mobil mobilan dapat digerakkan dengan cara **ditarik**



ayo mengamati benda di sekitarmu

tukang bakso menggerakkan gerobak  
gerobak digerakkan dengan cara **didorong**



Tahukah kamu olahraga kasti  
pada permainan kasti bola **dilemparkan**  
kemudian bola **dipukul** dan melambung jauh  
akhirnya bola **memantul** di tanah



pernahkah kamu bermain sepak bola  
ketika bermain sepak bola kamu **menendang** bola  
bola yang ditendang akan bergerak  
semakin kuat tendanganmu bola bergerak semakin jauh



pernahkah kamu menonton olahraga bola basket  
pemain membawa bola dengan memantulkan bola ke lantai  
bola akan **memantul** dan bergerak kembali ke atas  
kemudian bola dipantulkan lagi ke lantai  
setelah bola dipantulkan kemudian dilempar ke pemain lainnya



## bentuk gerak benda

bagaimana gerak burung yang terbang di udara  
burung terbang melayang di udara



sumber: [www.sealioncaves.com](http://www.sealioncaves.com)

sepedamu bergerak ketika kamu mengayuh sepeda  
mengapa sepeda dapat bergerak  
sepeda dapat bergerak karena roda sepeda menggelinding



sumber: [sellimic.com](http://sellimic.com)

ayo perhatikanlah gambar berikut


pernahkah kamu bermain perosotan  
kamu duduk di bagian atas perosotan  
kamu dapat meluncur sendiri



sumber: [www.masrafa.com](http://www.masrafa.com)

### ayo berlatih 3

ayo tuliskanlah di buku latihanmu  
ayo menentukan gerak benda-benda berikut  
apakah gerak benda melayang menggelinding memantul  
apakah gerak benda meluncur memukul atau mengalir




-----



-----



-----



## penyebab benda bergerak

mengapa benda dapat bergerak  
apa penyebabnya  
bagaimana mobil mobilan bergerak  
kamu menarik mobil mobilan agar mobil mobilan bergerak  
mobil mobilan berhenti bergerak jika tidak ditarik lagi



ada juga mobil mobilan yang menggunakan baterai  
bagaimana cara menggerakkan mobil ini  
pada mobil mobilan ini terdapat sakelar  
sakelar berguna untuk menggerakkan mobil mobilan



sumber: dokumentasi penulis

bagaimana mobil ini berhenti bergerak  
jika sakelar ke posisi semula mobil akan berhenti



gerobak tukang bakso digerakkan dengan cara didorong  
mengapa tukang bakso dapat mendorong gerobaknya  
tukang bakso dapat mendorong gerobak  
leo dapat menarik mobil mainannya  
tukang bakso dan leo memiliki tenaga  
jadi penyebab benda bergerak adalah tenaga  
tenaga dapat disebut **energi**  
benda bergerak karena ada energi  
energi tersebut adalah energi gerak

# sumber sumber energi gerak

apakah di rumahmu ada senter  
di dalam senter ada baterai  
senter dilengkapi dengan sakelar



sumber: [www.tacticalflashlight.com](http://www.tacticalflashlight.com)

sakelar berguna untuk menyalakan dan mematikan senter  
senter akan menyala jika sakelar ditekan ke arah **on**  
senter tidak menyala jika sakelar ditekan ke arah **off**  
senter menyala karena ada **baterai**  
jadi baterai merupakan sumber energi  
baterai juga menyebabkan mobil mobilan dapat bergerak



sumber: dokumentasi penulis

ayo melakukan kegiatan berikut

## ayo cari tahu 2

pernahkah kamu menggunakan bolpoin  
ketika kamu akan menggunakan bolpoin  
kamu menekan ujung atas bolpoin  
bagian ujung bolpoin memendek

ayo tekan kembali  
bagaimana keadaan ujung bolpoin

bagian ujung bolpoin akan memanjang  
apa yang sebenarnya terdapat di dalam bolpoin



ayo amatilah bagian dalam bolpoin

mintalah bantuan kakak atau orang tuamu  
mintalah bantuannya untuk membongkar bolpoin  
di dalam bolpoin terdapat **per** atau **pegas**

bagaimana bentuknya

tekanlah pegas itu

bagaimana bentuk pegas sebelum ditekan

bagaimana bentuk pegas sesudah ditekan



sumber: dokumentasi penulis



pegas ditekan



pegas tidak  
ditekan

magnet juga dapat menyebabkan benda bergerak  
magnet dapat menarik besi seperti paku dan gunting



sumber: dokumentasi penulis

ayo lakukanlah kegiatan berikut

### ayo cari tahu 3

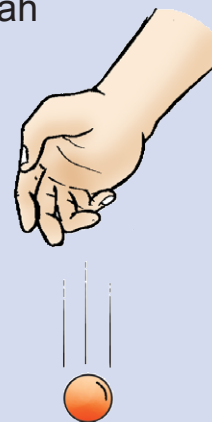
sediakanlah magnet dan paku  
dekatkanlah magnet dan paku  
apa yang terjadi



simpan paku di atas meja kaca  
dekatkanlah magnet dari bawah meja kaca  
gerakkanlah dan geserkan magnet  
apa yang terjadi

### tahukah kamu

benda yang ada di bumi selalu jatuh ke bawah  
coba kamu ambil bola lalu lepaskan  
bola tentu jatuh ke bawah  
hal ini disebabkan oleh gaya tarik bumi





## ayo pelajari kembali

kamu telah mempelajari gerak benda serta penyebabnya apakah kamu menemukan kesulitan ketika mempelajari bab ini jika ada kesulitan tanyakanlah pada teman atau gurumu

## evaluasi bab 5

kerjakanlah di buku latihanmu

1 manakah benda yang mudah bergerak



tuliskan ✓

jika kamu memilih benda ini



tuliskan ✓ ✓

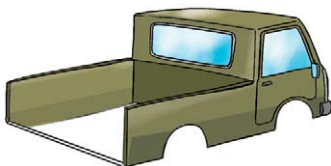
jika kamu memilih benda ini



tuliskan ✓ ✓ ✓

jika kamu memilih benda ini


2 agar mobil mudah bergerak bentuk roda yang digunakan



a



b




c



3 tuliskanlah penyebab benda benda berikut bergerak

a



-----

b



-----

c




-----

d

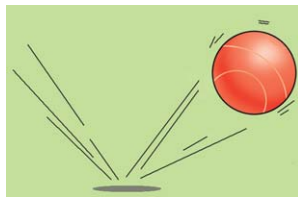


-----

4 bagaimana cara bergerak benda benda  
cocokkanlah dengan kata dalam kotak




a



b



c



d

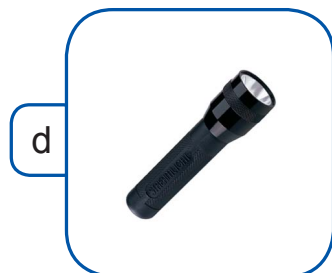

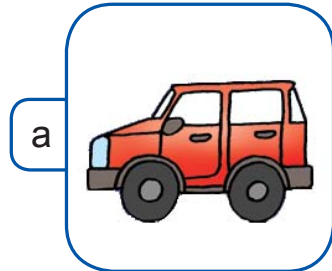
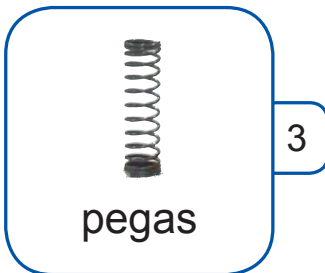
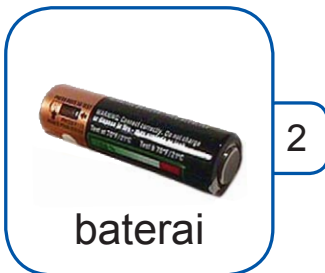
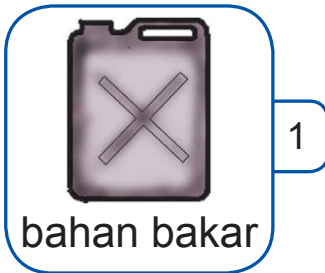
mengalir

melayang

menggelinding

memantul

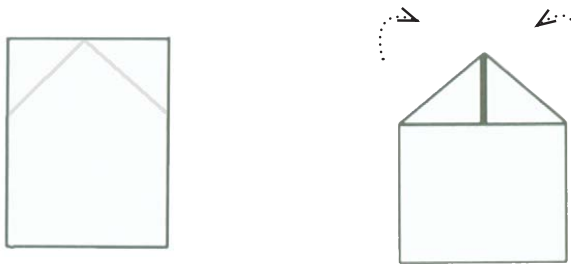
5 ayo cocokkanlah benda sesuai energinya  
cukup pasang nomor dengan huruf gambar pasangannya



## ipa itu menyenangkan

pesawat bergerak dengan cara melayang  
ayo buatlah pesawat dari kertas  
amatilah cara bergerak pesawat tersebut  
ikutilah langkah berikut

- 1 sediakanlah kertas polos ukuran folio  
lipat bagian ujung atas seperti gambar



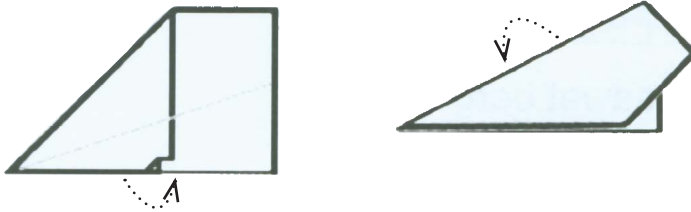
- 2 lipatlah kembali bagian atas kertas seperti gambar




- 3 perhatikan gambar  
lipatlah kedua ujung atas kertas ke dalam  
sobeklah sedikit ujung kertas bagian dalam  
kemudian lipatlah kertas bawah sebagai pengunci



- 4 lipatlah bagian tengah seperti gambar kemudian lipat bagian kedua sayap ke dalam



- 5 pesawatmu telah siap ayunkanlah dan perhatikanlah bagaimana cara pesawat bergerak



# bab 6

# mengenal benda langit



saat liburan sekolah keluarga dimas pergi berkemah  
saat malam tiba mereka membuat api unggun  
dimas memandangi langit malam yang cerah  
pemandangan langit tampak cerah  
dimas melihat bulan sabit  
ada juga bintang yang bersinar  
pemandangan yang sangat indah  
karunia tuhan yang maha pencipta



# mengenal benda langit pada malam hari

ayo kita bernyanyi bersama

marilah bernyanyi

## ambilkan bulan

ciptaan at mahmud

ambilkan bulan bu  
ambilkan bulan bu  
yang selalu bersinar di langit  
di langit bulan benderang  
cahyanya sampai ke bintang  
ambilkan bulan bu  
untuk menerangi  
tidurku yang lelap  
di malam gelap



Sumber: [www.geocities.com](http://www.geocities.com)

pandanglah langit pada malam hari yang cerah  
bintang bintang menghiasi langit  
bintang di langit seperti titik cahaya  
mengapa bulan bersinar



sumber: [www.temple.edu](http://www.temple.edu)

pada malam hari yang cerah bulan tampak bersinar  
bulan sangat terang

bulan tampak seperti bola bersinar di langit  
sinar bulan berasal dari cahaya matahari

### ayo cari tahu 1

ayo mengamati langit pada malam hari yang cerah  
apakah yang kamu lihat  
indah sekali bukan  
gambarkanlah pada buku gambarmu

pada malam hari yang cerah  
bintang bintang menghiasi langit  
bintang adalah benda langit yang memancarkan cahaya  
cahaya bintang sangat indah

pandanglah langit pada malam hari yang cerah  
bagaimana bentuk bulan  
bentuk bulan berubah ubah



sumber: [www.russellastronomy.com](http://www.russellastronomy.com)

bulan ada yang berbentuk **sabit**

bulan ada yang berbentuk **setengah lingkaran**



bulan yang berbentuk lingkaran disebut **bulan purnama**



sumber: [www.russellastronomy.com](http://www.russellastronomy.com)

## mengenal benda langit pada siang hari

pada siang hari yang cerah langit berwarna biru  
kamu dapat melihat matahari dan awan  
matahari adalah benda langit  
bentuknya seperti bola raksasa yang memancarkan cahaya  
matahari juga memancarkan panas




Sumber: *cd image*

pada siang hari yang cerah matahari terasa sangat panas  
kita tidak boleh melihat matahari secara langsung  
jika matahari dilihat secara langsung dapat menimbulkan kebutaan

ayo lakukanlah kegiatan berikut

## ayo cari tahu 2

lakukanlah bersama teman temanmu  
sediakanlah sebuah ember berisi air  
letakkanlah ember di tengah halaman rumah  
amatilah permukaan air di ember  
apa yang kamu lihat di air  
ayo tuliskanlah hasilnya di buku tugasmu



selain matahari kita juga dapat melihat **awan**  
**awan** adalah **kumpulan uap air**  
kumpulan uap air itu berasal dari bumi

awan ada yang berwarna **putih**  
ada juga yang berwarna **hitam**  
awan bukan benda langit



sumber: [www.verseguru.com](http://www.verseguru.com)

apakah pada malam hari kamu dapat melihat matahari  
pada malam hari kamu tidak dapat melihat matahari  
matahari berada di belahan bumi yang lain




sumber: [www.verseguru.com](http://www.verseguru.com)

amatilah langit pada pagi hari  
pada pagi hari langit tampak **kekuning kuningan**  
pada pagi hari awan berwarna jingga  
ayam dan burung mulai berkicau  
matahari terbit dari arah timur



## ayo kerjakan 2

ayo tirulah gambar suasana pagi berikut  
kerjakanlah di buku gambarmu  
kemudian warnailah sesuai dengan keinginanmu



## ayo berlatih 1

ayo melengkapi kalimat

pada pagi hari

langit berwarna \_\_\_\_\_

awan berwarna \_\_\_\_\_

itulah tandanya \_\_\_\_\_

matahari terbit dari arah \_\_\_\_\_

ketika cahaya matahari mulai redup langit mulai gelap  
langit berwarna kemerah merahan  
itulah tanda **matahari terbenam**  
hari mulai malam



sumber: *cd image*

suara jangkrik mulai terdengar  
lampu di rumah dan di jalan mulai dinyalakan  
matahari sedikit demi sedikit menghilang di sebelah barat

## ayo kerjakan 3

ayo tirulah gambar suasana sore hari berikut  
kerjakanlah di buku gambarmu  
kemudian warnailah sesuai dengan keinginanmu



## tahukah kamu

kelelawar dan burung hantu mencari makanan pada malam hari



sumber: *cd image*

### ayo pelajari kembali

kamu telah mempelajari benda langit pada siang hari  
kamu juga telah mempelajari benda langit pada malam hari  
apa saja benda langit itu  
apakah kamu menemukan kesulitan ketika mempelajari bab ini  
tanyakanlah kepada teman atau gurumu jika ada kesulitan

## evaluasi bab 6

### kerjakanlah di buku latihanmu

- 1 dimas nina siti dan leo sedang mengerjakan tugas mereka memandangi langit pada malam hari yang cerah



- tampak \_\_\_\_\_ bersinar terang  
tampak juga \_\_\_\_\_ berkelap kelip di langit  
cahaya bulan berasal dari cahaya \_\_\_\_\_
- 2 pada malam hari yang cerah  
benda yang terlihat di langit adalah \_\_\_\_\_ dan \_\_\_\_\_.
  - 3 pada malam hari matahari tidak terlihat karena berada  
di \_\_\_\_\_ bumi lain
  - 4 ceritakanlah apa yang kamu lihat pada pagi hari  
langit tampak berwarna \_\_\_\_\_  
awan berwarna \_\_\_\_\_  
matahari terbit dari arah \_\_\_\_\_  
terdengar suara kokok \_\_\_\_\_  
hewan hewan seperti \_\_\_\_\_ mulai berkicau

5 ayo perhatikanlah benda langit berikut  
 manakah yang terlihat pada pagi hari  
 manakah yang terlihat pada siang hari  
 manakah yang terlihat pada malam hari



bulan purnama



bintang



awan



matahari



bulan sabit

pagi hari \_\_\_\_\_  
 \_\_\_\_\_  
 \_\_\_\_\_

siang hari \_\_\_\_\_  
 \_\_\_\_\_  
 \_\_\_\_\_

sore hari \_\_\_\_\_  
 \_\_\_\_\_  
 \_\_\_\_\_

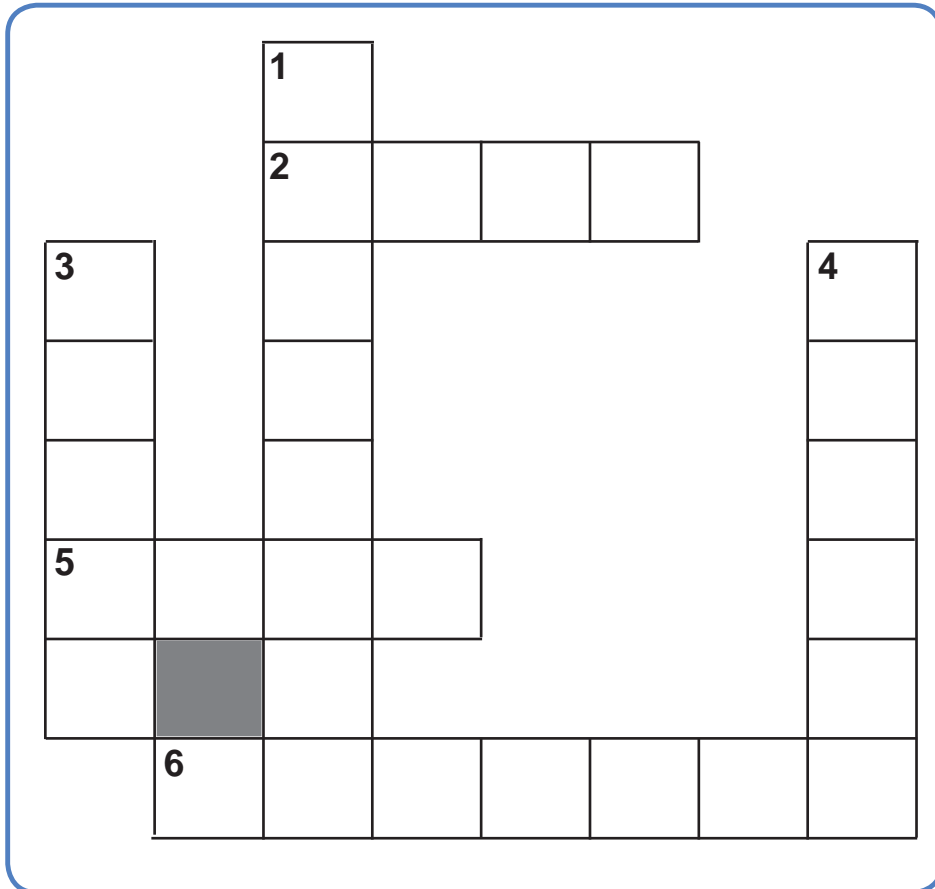
malam hari \_\_\_\_\_  
 \_\_\_\_\_  
 \_\_\_\_\_

samakah jawabanmu dengan jawaban temanmu



## ipa itu menyenangkan

ayo isilah teka teki silang berikut



pertanyaan

- menurun
  - 1 benda langit yang bersinar pada siang hari
  - 3 benda langit yang memantulkan cahaya
  - 4 hewan yang berkicau pada pagi hari
- mendatar
  - 2 hewan yang berkokok pada pagi hari
  - 5 kumpulan uap air yang berasal dari bumi
  - 6 benda langit pada malam hari yang berkelap kelip



nina siti dimas dan leo berjalan bersama  
siang itu mereka pulang sekolah  
sejak pagi langit tampak mendung  
kini awan hitam semakin tebal  
tiba tiba turunlah hujan  
beruntung mereka membawa payung dan jas hujan  
mereka tidak kebasahan  
hujan sering terjadi saat musim hujan  
apa kamu siap menghadapi musim hujan

# musim hujan

ayo nyanyikanlah lagu berikut  
gunakanlah alat musik di sekolahmu untuk mengiringi nyanyianmu

## marilah bernyanyi

### tik tik bunyi hujan

ciptaan ibu sud

tik tik tik  
bunyi hujan  
di atas genting  
airnya turun  
tidak terkira  
cobalah tengok  
dahan dan ranting  
pohon dan kebun  
basah semua



sumber: [www.geocities.com](http://www.geocities.com)

## ayo bercerita di depan kelas

dimas leo siti dan nina pulang sekolah  
mereka berjalan bersama sama  
kemudian mereka berjalan agak cepat  
langit mulai mendung



awan berwarna kehitaman dan udara terasa dingin  
sesekali angin berembus kencang  
tampak kilat menyambar



terdengar gemuruh guntur  
tiba tiba hujan turun dengan deras  
mereka tidak ada yang membawa payung  
pakaian mereka basah  
pernahkah kamu mengalami kejadian seperti mereka



## ayo berlatih 1

ayo kerjakanlah di buku latihanmu  
jawablah pertanyaan berikut

- 1 mengapa dimas leo siti dan nina berjalan agak cepat
- 2 tulislah tanda tanda akan turun hujan
- 3 mengapa baju dimas leo siti dan nina basah

apakah kamu pernah kehujan ketika pulang sekolah  
apakah pakaianmu basah  
bagaimana caranya agar bajumu tidak kebasahan  
benda apa yang seharusnya digunakan saat hujan

benda yang diperlukan pada musim hujan adalah payung  
Selain payung jas hujan dapat melindungimu dari kebasahan  
kebasahan akibat air hujan



payung dan jas hujan terbuat dari bahan plastik  
bahan plastik tahan air



pada musim hujan biasanya cuaca dingin  
kamu sebaiknya memakai jaket agar tubuhmu hangat



## kegiatan manusia pada musim hujan

apa yang kamu lakukan pada musim hujan  
pada musim hujan udara terasa dingin  
kamu sebaiknya memakai pakaian tebal

ketika hujan kamu jangan bermain di luar rumah  
kamu akan terserang penyakit jika kebasahan air hujan  
pada musim hujan air melimpah  
pak tani menanam padi  
sawah sawah tergenang air  
tumbuhan dapat tumbuh dengan subur



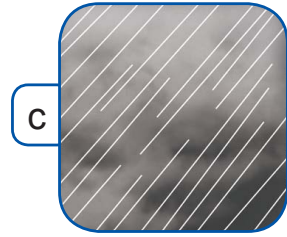
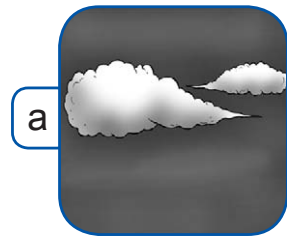
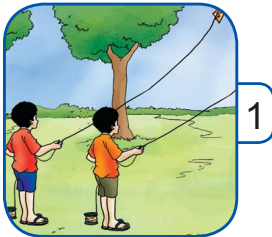
hujan juga dapat mengakibatkan banjir  
banjir disebabkan banyak selokan tersumbat oleh sampah  
oleh karena itu jangan membuang sampah sembarangan

### ayo cari tahu 1

ayo perhatikanlah orang-orang saat hari hujan  
apa saja yang digunakan mereka saat hari hujan  
tuliskanlah nama dan gambarkanlah benda-benda tersebut  
kerjakanlah di buku latihanmu  
mintalah bantuan orang tua atau gurumu

## ayo kerjakan 1

ayo kerjakanlah di buku latihanmu  
pasangkanlah cuaca dengan kegiatan yang sesuai  
cukup tuliskan angka dan huruf pasangan gambarnya  
contohnya 1 = b



## pengaruh musim panas atau kemarau

pada musim panas atau kemarau langit cerah  
pada musim panas atau kemarau udara panas sekali  
pada musim panas atau kemarau angin jarang berembus  
tubuhmu akan berkeringat karena udara panas

pakaian dari bahan halus diminati saat musim panas  
payung dapat juga digunakan pada musim panas  
payung melindungimu dari sinar matahari



topi digunakan di kepala  
topi berguna untuk melindungi kepala agar tidak kepanasan  
pakaian dari bahan katun membuatmu nyaman  
bahan katun dapat menyerap keringat



## kegiatan manusia pada musim kemarau

pada musim kemarau langit cerah  
kamu dapat bermain sepak bola  
kamu dapat bermain kelereng atau bermain layang layang





pada musim kemarau udara panas  
keadaan tersebut sangat baik untuk menjemur pakaian  
udara panas sangat baik untuk mengeringkan makanan



makanan yang dikeringkan seperti ikan asin dan kerupuk



sumber: [www.pikiran-rakyat.com](http://www.pikiran-rakyat.com)

pada musim kemarau air berkurang  
tanah menjadi kering dan retak retak  
banyak tanaman mati  
ladang dan sawah mengalami kekeringan



ada tanaman yang dapat ditanam pada musim kemarau  
tanaman itu adalah tanaman palawija seperti jagung singkong  
petani menanam palawija saat musim kemarau



## ayo kerjakan 2

ayo ceritakanlah di depan kelas pernahkah kamu mengalami musim kemarau bagaimana keadaan tanah dan tumbuhan di sekitar rumahmu

## tahukah kamu

indonesia memiliki dua musim musim tersebut adalah musim hujan dan musim kemarau beberapa negara seperti inggris memiliki empat musim Inggris memiliki musim panas Inggris memiliki musim gugur Inggris memiliki musim semi Inggris juga memiliki musim dingin disertai turun salju

## ayo pelajari kembali

kamu telah mempelajari cuaca musim dan pengaruhnya cuaca dan musim mempengaruhi kegiatan manusia apakah kamu menemukan kesulitan ketika mempelajari bab ini tanyakanlah kepada teman atau gurumu jika ada kesulitan

## evaluasi bab 7

### kerjakanlah di buku latihanmu

- 1 salinlah dan lengkapi kalimat berikut
  - pada musim hujan udara terasa \_ \_ \_ \_ \_
  - pada musim hujan dimas selalu membawa \_ \_ \_ \_ \_ atau \_ \_ \_ \_ \_
- 2 manakah benda benda yang dapat membantumu saat hujan



payung



topi



jas hujan



baju

- 3 ayo ceritakanlah gambar berikut



sumber: [www.pikiran-rakyat.com](http://www.pikiran-rakyat.com)

---

---

---

---

---

---

---

---

---

---

4 amatilah gambar berikut



apa akibat dari kegiatan pada gambar tersebut

---

---

---

5 ayo kelompokkanlah kegiatan berikut  
persiapan kegiatan menghadapi musim hujan dan musim kemarau

membawa payung

membawa payung

membawa jaket tebal

membawa topi

menjemur kerupuk

memakai baju  
berbahan katun tipis

menanam padi

membawa jas hujan

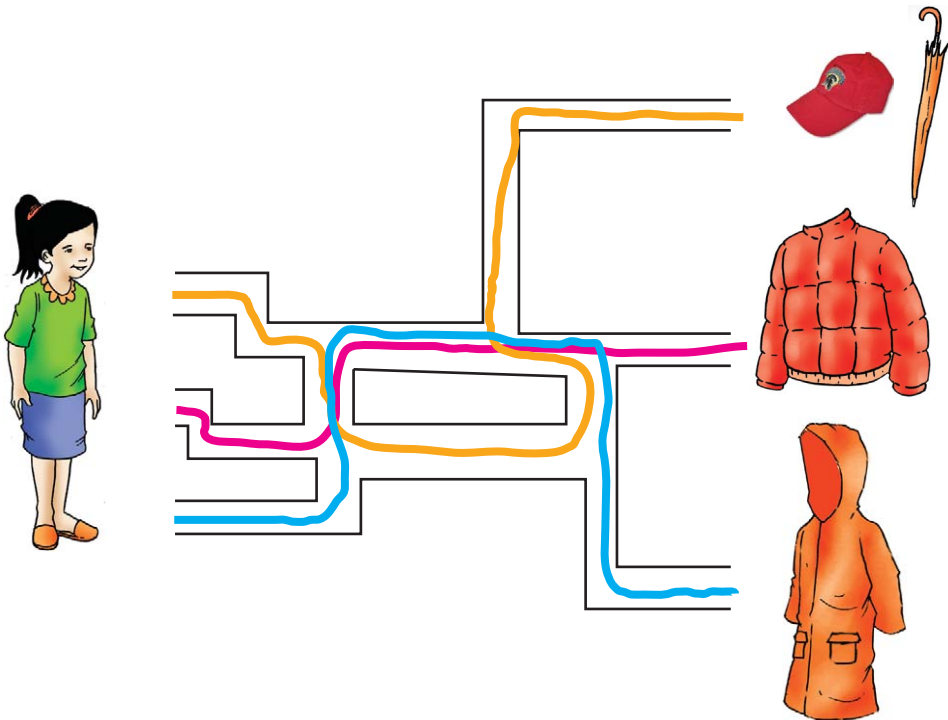
persiapan menghadapi musim hujan \_\_\_\_\_

kegiatan saat musim hujan \_\_\_\_\_

kegiatan saat musim kemarau \_\_\_\_\_

## ipa itu menyenangkan


pada musim kemarau siti akan bepergian  
persiapan apa saja yang diperlukan siti  
ayo tunjukkan jalan buat siti



## evaluasi semester 2

kerjakanlah di buku latihanmu

1 benda manakah yang mudah bergerak



a



b



c

2 bagaimana cara benda berikut bergerak gunakanlah pilihan kata di samping

a



\_\_\_\_\_

melayang

b



\_\_\_\_\_

mengelinding

c



\_\_\_\_\_

berputar

mengalir

3 benda manakah yang dapat digerakkan oleh magnet



a



b



c

4 ayo perhatikan gambar berikut



pada malam hari terlihat

\_\_\_\_\_ dan \_\_\_\_\_



pada siang hari terlihat

\_\_\_\_\_

5 tuliskanlah nama bentuk bulan berikut



bulan \_\_\_\_\_



bulan \_\_\_\_\_



bulan \_\_\_\_\_



bulan \_\_\_\_\_

6 ayo salin dan lengkapilah kalimat berikut

- pada pagi hari \_\_\_\_\_ muncul dari arah

\_\_\_\_\_

- pada \_\_\_\_\_ hari matahari terbenam di arah


\_\_\_\_\_

- \_\_\_\_\_ dan \_\_\_\_\_ terlihat pada malam hari


- bulan \_\_\_\_\_ cahaya matahari ke bumi



7 tuliskanlah keadaan cuaca berikut




-----



-----



-----



-----

8 kelompokkanlah keadaan berikut  
kelompokkan ke dalam ciri ciri musim kemarau  
kelompokkan ke dalam ciri ciri musim hujan

banjir

udara panas

tanah becek

petani tanam palawija

pakaian sulit kering

udara dingin

sawah kering

sering merasa haus

ciri ciri musim hujan \_\_\_\_\_  
\_\_\_\_\_  
\_\_\_\_\_  
\_\_\_\_\_

ciri ciri musim kemarau \_\_\_\_\_

---

---

---

---

**9** dimas berangkat ke sekolah  
saat itu cuaca mendung  
ayo tuliskan benda benda yang harus dimas bawa



baju hangat



topi



payung



helm

**10** kegiatan apa yang biasa dilakukan pada musim panas



menanam padi



menjemur padi

## evaluasi akhir tahun

kerjakanlah di buku latihanmu

a pilihlah jawaban yang paling benar

1



nama bagian tubuh pada gambar di samping ialah

a telinga b hidung c mata

2 jumlah telinga ada

- a satu
- b dua
- c tiga

3 kegunaan kaki untuk

- a berlari
- b memegang
- c tiga

4



benda pada gambar di samping digunakan untuk merawat

a mata b kuku c telinga

5



tubuh perlu makanan agar

- a kuat dan sehat
- b tidak mengantuk
- c manis

6 jika haus kamu harus segera

- a makan
- b tidur
- c minum

- 7 fungsi pakaian untuk
- a terlihat bagus
  - b pelindung tubuh
  - c pelindung hujan
- 8 jika kamu tidak mandi maka
- a badanmu bau dan kotor
  - b rambutmu kusut
  - c matamu mengantuk

- 9 kegunaan benda pada gambar di samping untuk
- a membersihkan lantai
  - b mengepel lantai
  - c menggosok lantai



- 10 suasana yang menunjukkan lingkungan bersih adalah
- 11 jika tanaman tidak disiram setiap hari maka



a



b



- a tanaman menjadi layu
- b tanaman akan berbunga
- c tanaman akan tumbuh tinggi

12



jika rumah tidak memiliki jendela  
a ruangan dalam rumah gelap  
b ruangan dalam rumah terang  
c ruangan dalam rumah segar

13



bentuk gambar di samping ialah

- a bulat
- b kotak
- c segitiga

14



fungsi benda pada gambar di samping ialah untuk

- a menghapus
- b menulis
- c memotong

15 benda yang lebih mudah bergerak ialah



a



b



c

16



mobil mobilan dapat bergerak karena di dalamnya terdapat



a



b



c

- 17 jika gerobak tidak memiliki roda maka gerobak
- a bergerak cepat
  - b sulit bergerak
  - c mudah bergerak
- 18 benda langit yang terlihat pada siang hari ialah
- a bulan
  - b matahari
  - c bintang
- 19 keadaan saat musim panas ialah
- a banyak air
  - b udara dingin
  - c udara panas
- 20 petani menanam palawija saat musim kemarau karena
- a banyak air
  - b palawija tidak perlu banyak air
  - c harga palawija saat musim panas mahal

**b jawablah soal-soal berikut dengan singkat dan jelas**

- 1 tuliskanlah kegunaan mata hidung dan telinga
- 2 mengapa sebelum makan sebaiknya mencuci tangan dahulu
- 3 tuliskanlah tiga ciri buah pisang
- 4 mengapa bola lebih mudah bergerak daripada kursi
- 5 tuliskanlah empat ciri musim kemarau

## kunci jawaban

### evaluasi bab 1

- 2 mata saya ada dua  
hidung saya ada satu  
telinga saya ada dua  
mulut saya ada satu  
tangan saya ada dua  
kaki saya ada dua  
banyak telinga saya sama  
dengan mata saya  
banyak hidung saya sama  
dengan mulut saya  
banyak tangan saya sama  
dengan kaki saya
- 4 mandi agar kulitmu bersih  
mencuci tangan sebelum  
makan  
sebelum tidur aku selalu  
menggosok gigi

### evaluasi bab 2

- 2 dimas mencuci tangan dan  
kaki setelah bermain  
dimas makan nasi sayuran  
dan buah buahan  
leo haus setelah  
berolahraga  
leo minum segelas air
- 4 makanan sehat yaitu b c d e  
dan h

### evaluasi bab 3

- 2 gambar b menunjukkan  
lingkungan yang sehat
- 4 kegiatan yang memelihara  
lingkungan yaitu a c e dan  
f

### evaluasi bab 4

- 2 benda yang memiliki rasa  
yaitu nomor 2 dan 4
- 4 a warnanya biru  
b warnanya hijau  
c warnanya kuning  
d warnanya merah  
muda
- 6 gula rasanya manis  
sirup rasanya manis
- 8 piring
- 10 a berguna untuk  
menyapu  
b berguna untuk mandi  
c berguna untuk  
memasak  
d berguna untuk  
menggosok gigi  
e berguna untuk  
olahraga  
f berguna untuk makan

## evaluasi semester 1

- 2 a
- 4
- 6 a digunakan untuk menyapu  
b digunakan untuk memasak  
c digunakan untuk menggunting
- 8 a hijau  
b putih  
c kuning  
d biru  
e merah
- 10 a permen sebagai makanan  
b kursi sebagai tempat duduk  
c piring sebagai wadah makan  
d televisi untuk ditonton  
e kipas angin sebagai penyejuk ruangan  
f senter sebagai alat penerang  
g telepon sebagai alat komunikasi  
h buku sebagai alat tulis  
i bola untuk bermain

bola

- j penghapus untuk menghapus tulisan

## evaluasi bab 6

- 2 pada malam hari yang cerah benda yang terlihat di langit, yaitu bulan dan bintang
- 4 langit tampak berwarna kekuning kuningan awan berwarna jingga matahari terbit dari arah timur terdengar kokok ayam hewan hewan seperti burung mulai berkicauan

## evaluasi bab 7

- 2 payung dan jas hujan
- 4 bermain saat hujan dapat menyebabkan kita sakit

## evaluasi semester 2

- 2 a melayang  
b menggelinding  
c berputar



- 4 a pada malam hari terlihat bulan dan bintang
- b pada siang hari terlihat matahari
- 6 • pada pagi hari matahari muncul dari arah timur
- pada sore hari matahari terbenam di arah barat
- bulan dan bintang terlihat pada malam hari
- bulan memantulkan cahaya matahari ke bumi
- 8 ciri ciri musim hujan
- dapat terjadi banjir
  - tanah becek
  - pakaian sulit kering
  - udara dingin
- ciri ciri musim kemarau
- udara panas
  - petani meninam palawija
  - sawah kering
  - sering merasa haus
- 10 menjemur padi

## evaluasi akhir tahun

### a pilihan ganda

- 2 b
- 4 b
- 6 c
- 8 a
- 10 b
- 12 a
- 14 b
- 16 a
- 18 b
- 20 b

### b jawaban singkat

- 2 agar tangan bersih dari kuman penyebab penyakit
- 4 karena bola berbentuk bundar adapun kursi bentuknya tidak beraturan

## kamus ipa

energi	:	sumber tenaga pada benda
cuaca	:	keadaan udara
gigi	:	bagian dalam mulut untuk menggigit dan mengunyah
hidung	:	bagian tubuh untuk mencium dan bernapas
kaki	:	bagian tubuh untuk berjalan dan berlari
karbohidrat	:	kandungan makanan sebagai sumber energi bagi tubuh
magnet	:	benda logam yang dapat menarik logam besi
mata	:	bagian tubuh untuk melihat
mineral	:	kandungan makanan dan minuman yang membantu pertumbuhan tubuh
mulut	:	bagian tubuh untuk makan
musim	:	keadaan cuaca secara umum pada rentang waktu tertentu
protein	:	kandungan makanan untuk pertumbuhan tubuh
rambut kepala	:	bagian tubuh untuk melindungi kepala dari panas
tangan	:	bagian tubuh untuk memegang benda
telinga	:	bagian tubuh untuk mendengar
vitamin	:	kandungan makanan dan minuman agar tubuh sehat

## daftar pustaka

- Brook, F. dan J. Wright. 2000. *The Usborne Internet-Linked Encyclopedia*. London: Usborne.
- Brook, J. 2002. *My First Book of The Human Body*. United Kingdom: Grandream.
- BSNP. 2006. *Standar Kompetensi dan Kompetensi Dasar 2006 Mata Pelajaran Ilmu Pengetahuan Alam Sekolah Dasar/ Madrasah Ibtidaiyah*. Jakarta: Departemen Pendidikan Nasional.
- Ganeri, A. 1994. *First The Starts The Body Breathing*. London: Watts Books.
- Grolier International. 1999. *Oxford Ensiklopedi Pelajar*. Jakarta: PT Widyadasa.
- Holland, J. 2007. *Ensiklopedia Iptek (Terjemahan)*. Jakarta: Lentera Abadi.
- Kamus Visual. 2003. Jakarta: Buana Ilmu Populer.
- Kramer, A. 1998. *Ensiklopedi Populer Anak Jilid 4*. Jakarta: PT Ihtiar Baru Van Hoeve.
- Walker, R. 2001. *The Human Body Close Up*. London: Silverdale Books.
- Wright, L. 1994. *First The Starts Hearing*. London: Watts Books.
- Wright, L. 1994. *First The Starts Seeing*. London: Watts Books.

ISBN 979 462 848 4 (Jilid Lengkap)  
ISBN 979 462 827 1

Buku ini telah dinilai oleh Badan Standar Nasional Pendidikan (BSNP) dan telah dinyatakan layak sebagai buku teks pelajaran berdasarkan Peraturan Menteri Pendidikan Nasional Nomor 46 Tahun 2007 tanggal 5 Desember 2007 tentang Penetapan Buku Teks Pelajaran yang Memenuhi Syarat Kelayakan untuk Digunakan dalam Proses Pembelajaran.

HET (Harga Eceran Tertinggi) Rp9.324,00